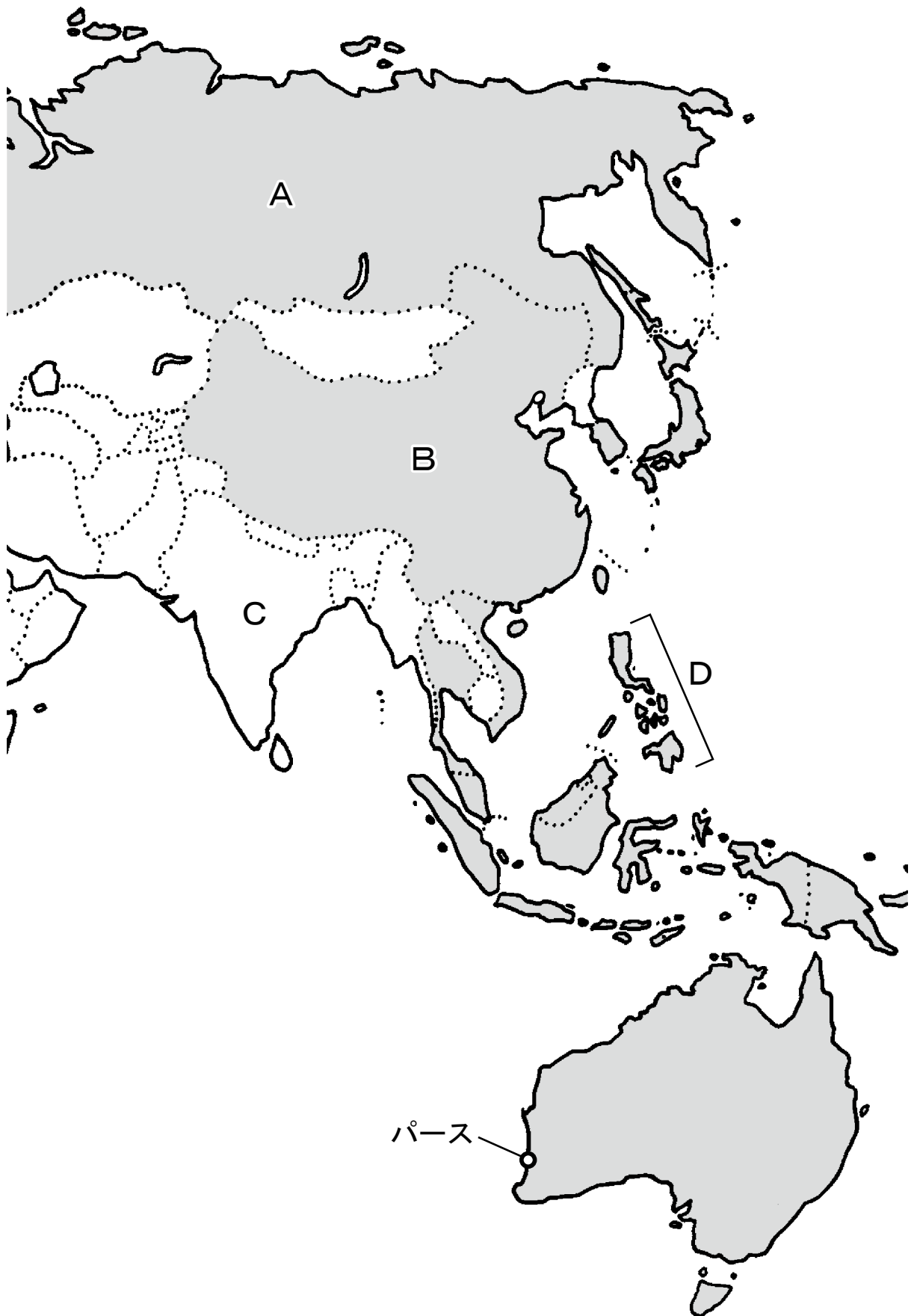



1 次の地図を見て、あとの(1)～(6)に答えなさい。(15点)



(1) 次の文は、地図中に  で示された国と地域が参加する経済協力の枠組みについて述べたものである。もっとも関係の深いものを、下の①～⑤の中から一つ選びなさい。

アジア太平洋地域の21の国と地域が参加する経済協力の枠組みで、事務局はシンガポールに所在する。1989年に閣僚会議として開始され、1993年からは首脳会議も開始されている。わが国では、1995年と2010年の2度、首脳会議が開催された。アジア太平洋地域の持続可能な成長と繁栄に向けて、貿易・投資の自由化・円滑化や地域経済統合の推進、経済・技術協力等の活動を実施している。

(外務省ホームページから引用、一部改変)

- ① OECD ② OPEC ③ APEC ④ AU ⑤ ASEAN

(2) 地図中のA国について、ア・イに答えなさい。

ア A国が、2022年2月に侵攻を開始し、衝突が続いている国を、次の①～⑤の中から一つ選びなさい。

- ① エストニア ② ベラルーシ ③ カザフスタン ④ ジョージア
⑤ ウクライナ

イ 日本とA国との間には、北方領土の領有をめぐる問題が存在する。北方領土に含まれる島として正しいものを、次の①～⑤の中から一つ選びなさい。

- ① 対馬 ② 隠岐諸島 ③ 竹島 ④ 択捉島 ⑤ 尖閣諸島

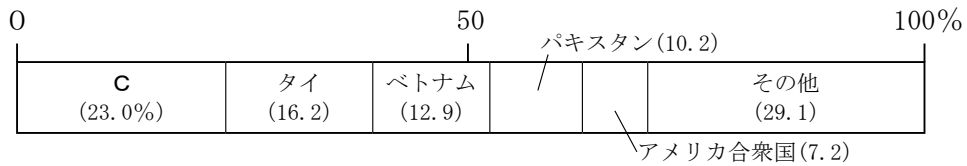
(3) 地図中のB国について述べた次の文について、下線部①～⑤の中から、適切でないもの一つを選びなさい。

現在の中国（中華人民共和国）は、1949年、①蒋介石を国家主席として成立した。世界で緊張緩和が進む中、日本は、1972年に、日中共同声明によって国交を正常化し、1978年には、②日中平和友好条約を結んだ。

1970年代の後半には、鄧小平が実権をにぎり、農業・工業・国防・科学技術の「四つの現代化」を目標に、国内改革と対外開放を実施した。政策は大きく転換され、増えすぎた人口に対しては、③一人っ子政策をとり、人口増加の抑制を目指した。経済面では、アモイやシェンチェンなどに④経済特区を設け、外国企業を積極的にまねいた。現在、GDP（国内総生産）は、日本を抜いて世界第2位となり、「世界の工場」とよばれるまでに発展した。

しかし、経済成長によって、新たな問題も発生している。都市部では、大気汚染や酸性雨、水質汚濁などの環境問題が起こった。また、沿岸部と内陸部、都市と農村の所得格差が大きくなった。農村からは、多くの出かせぎ者が都市へと流入し、低賃金での労働を強いられる者も多い。政府は、2000年ごろから、交通網などの整備や資源開発など、内陸部の開発に着手し、これは⑤西部大開発と名付けられている。

(4) 次のグラフは、ある農産物の輸出について示したものであり、輸出量がもっとも多いのは地図中のC国となっている。この農作物として適切なものを、下の①～⑤の中から一つ選びなさい。(2019年の統計)



- ① 米 ② バナナ ③ カカオ豆 ④ 小麦 ⑤ 茶

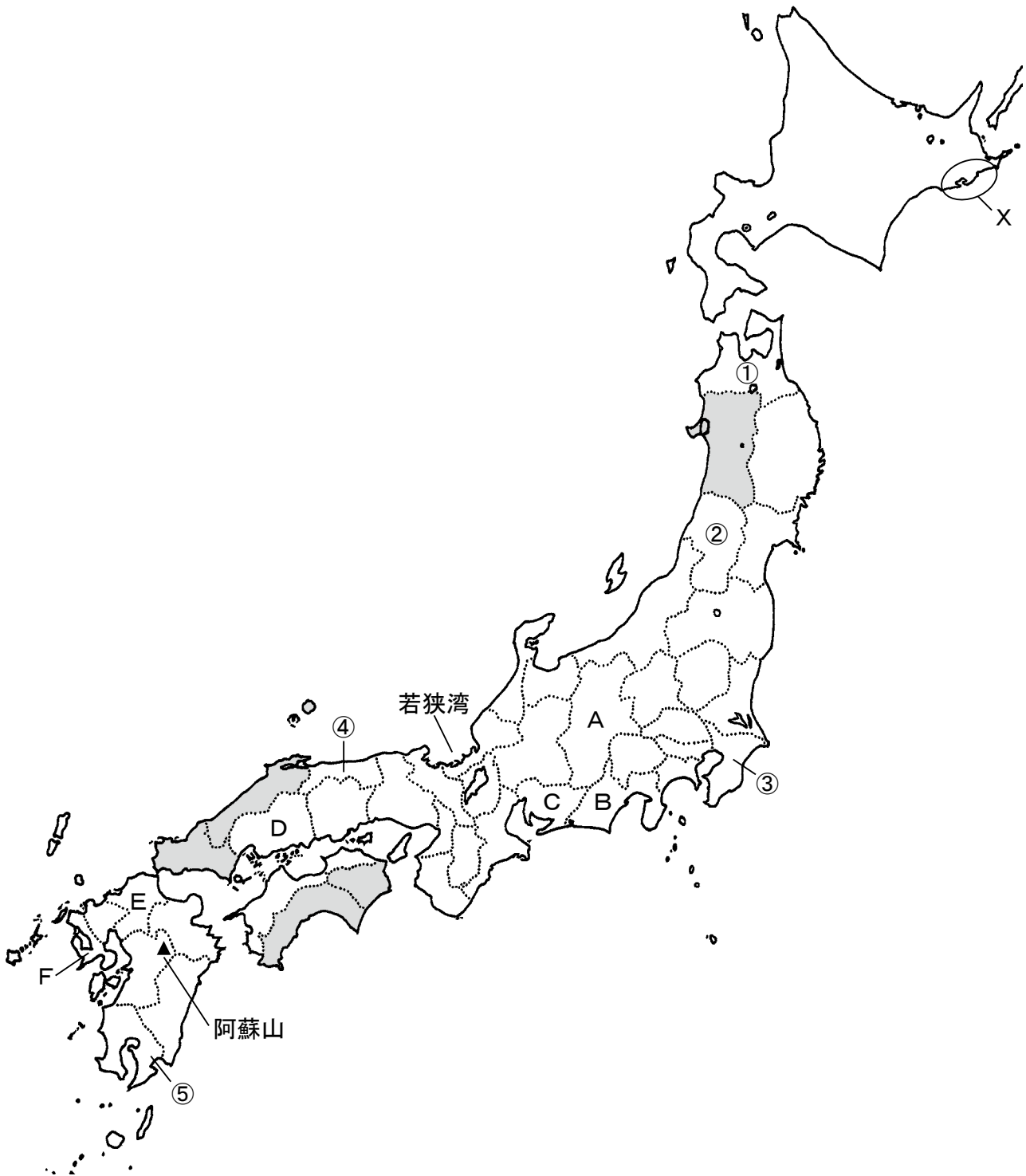
(5) 地図中のD国において、もっとも多くの人々が信仰している宗教と、公用語の組み合わせとして適切なものを、次の①～⑨の中から一つ選びなさい。


	宗教	公用語
①	仏教	フィリピン語と英語
②	仏教	フィリピン語とフランス語
③	仏教	フィリピン語とオランダ語
④	イスラーム	フィリピン語と英語
⑤	イスラーム	フィリピン語とフランス語
⑥	イスラーム	フィリピン語とオランダ語
⑦	キリスト教	フィリピン語と英語
⑧	キリスト教	フィリピン語とフランス語
⑨	キリスト教	フィリピン語とオランダ語

(6) 地図中のパースは、温帯に属し、夏に乾燥する気候である。同様の気候がみられる都市を、次の①～⑤の中から一つ選びなさい。

- ① ブラジリア (ブラジル) ② ローマ (イタリア) ③ カイロ (エジプト)
 ④ オタワ (カナダ) ⑤ ロンドン (イギリス)

2 次の地図を見て、あとの(1)～(7)に答えなさい。(15点)



(1) 地図中の  は、ある統計について、上位5つの県を示したものである。適切なものを、次の①～⑤の中から一つ選びなさい。(①②④⑤は2019年、③は2017年の統計)

- ① 県の人口に占める65歳以上の割合
- ② 県内で使用された電力量
- ③ スキー場の施設数
- ④ 梨(日本梨)の収穫量
- ⑤ 県内の港に水揚げされた漁獲量(海面漁業と海面養殖業の合計)

(2) 次の文は、ある県の農業について述べたものである。文の示す県を、地図中①～⑤の中から一つ選びなさい。

東部の火山灰におおわれた台地は、夏に吹く低温の北東風により、冷害にみまわれることも多い。そのため、長いもやにんにくなど、地中に実る作物が多く栽培されている。

(3) 次のア・イの文は、地図中A～Fのいずれかの県の工業について述べたものである。文と県の組み合わせとして適切なものを、下の①～⑨の中から一つ選びなさい。

ア 養蚕と蚕から絹糸を作る製糸業が発達した。昭和に入ると、その生産は減少し、第二次世界大戦後には、製糸機械を作る技術や桑畑の土地を生かした精密機械工業が発達した。大戦中に、京浜工業地帯から、航空機部品などの工場が疎開したことや、かつて製糸業で働いていた多くの人たちの存在も、精密機械工業が発達するきっかけとなった。

イ 1901年に、日本初の本格的な製鉄所が操業を開始し、近代的な重工業発祥の地ともいわれる。近くの筑豊炭田の石炭と中国から輸入した鉄鉱石や石炭を利用して、鉄鋼を生産し、日本の近代産業の発展を支えた。しかし、1960年代に、外国から安い石炭が輸入されるようになると、筑豊炭田の炭鉱は次々と閉山し、鉄鋼の生産も大幅に減少した。

	ア	イ
①	A	D
②	A	E
③	A	F
④	B	D
⑤	B	E
⑥	B	F
⑦	C	D
⑧	C	E
⑨	C	F

(4) 次のウ・エの文は、地図中A～Fのいずれかの県の県庁所在地を訪れた人が感想を述べたものである。文と県の組み合わせとして適切なものを、下の①～⑨の中から一つ選びなさい。

ウ この都市が政令指定都市に指定されていることを、初めて知りました。世界遺産に登録されている三保松原の風景はすばらしかったです。また、弥生時代の登呂遺跡や、徳川家康が住んだ駿府城など、歴史に関わる見所も豊富でした。おみやげ屋さんには、お茶やみかんを使ったお菓子がたくさんあり、どれを買おうか迷ってしまいました。

エ この都市を本拠地とするプロサッカーチームの名前は、この地を治めていた毛利元就の『三本の矢』の逸話に由来しているのだそうです。世界遺産に登録されている、原子爆弾が投下された爆心地の建物と、資料館を見学し、平和について考えさせられました。次は、冬におとずれて、名物のかき料理を食べたいと思います。

	ウ	エ
①	A	D
②	A	E
③	A	F
④	B	D
⑤	B	E
⑥	B	F
⑦	C	D
⑧	C	E
⑨	C	F

(5) 地図中Xの沿岸部には、春から夏に濃霧が発生し、農業や海上交通に影響を及ぼしている。その原因の一つとなっている海流を、次の①～④の中から一つ選びなさい。

- ① 対馬海流 ② 親潮（千島海流） ③ リマン海流 ④ 黒潮（日本海流）

(6) 地図中の若狭湾の沿岸には、ある発電方式による発電所が集中している。その発電方式としてもっとも適切なものを、次の①～⑤の中から一つ選びなさい。

- ① 火力発電 ② 水力発電 ③ 風力発電 ④ 地熱発電 ⑤ 原子力発電

(7) 地図中の阿蘇山は、噴火で火山灰や溶岩がふき出したあとが落ち込んでできた巨大なくぼ地を持つ。この地形を何とよぶか、カタカナで答えなさい。

問題は、次のページに続く。

3 次の文を読んで、あとの(1)～(5)に答えなさい。(12点)

⑥SDGs(持続可能な開発目標)とは、「誰一人取り残さない」、持続可能でより良い社会の実現を目指し、環境、教育、経済、まちづくりなどの幅広い分野にまたがる、国・企業・①NPO・個人等の多様な主体が取り組むことが求められている世界共通の目標です。17のゴール・169のターゲット・231の指標が定められています。これらは、⑤多くの企業・団体・自治体の取組や活動に密接にかかわるものであるため、一人ひとりが「自分事」として考え行動することが大切です。

青森県は、基本計画にSDGsの理念を踏まえた各種施策の展開を掲げ、④各政策分野に取り組むとともに、また、SDGsの取組主体となる市町村や企業、関係団体等への⑥情報発信や普及啓発の取組などを通じ、県民のSDGsに対する理解促進を図っています。

(青森県庁ホームページから引用、一部改変)

(1) 下線部⑥とは、2015年の国連サミットで採択された国際目標である。国際連合(国連)に関連する説明として適切でないものを、次の①～④の中から一つ選びなさい。

- ① 国連は、国際平和の維持のために設立され、経済制裁のみを行う。
- ② 国連の本部は、アメリカ合衆国のニューヨークに置かれている。
- ③ 国連の主要機関には、総会や安全保障理事会、経済社会理事会などがある。
- ④ 国連の専門機関には、国際通貨基金(IMF)や世界保健機関(WHO)、国連教育科学文化機関(UNESCO)などがある。

(2) 下線部①を言い換えたものとしてもっとも適切なものを、次の①～⑤の中から一つ選びなさい。

- ① 政府開発援助 ② 非営利団体 ③ 多国籍企業 ④ 国民総所得
- ⑤ 平和維持活動

(3) 下線部②に関連して、企業が大規模化するにつれて社会に大きな影響を与えることから、企業には、利潤の追求だけではなく、雇用の確保や人々の生活を安定させる役割も求められている。「企業の社会的責任」の略称を、アルファベットで答えなさい。

(4) 下線部③に関連して、青森県が「世界が認める青森ブランドの確立」をめざして取り組んできたこととして適切でないものを、次の①～④の中から一つ選びなさい。

- ① アグリ分野(農業分野)の持続的成長にもとづく、農産物の輸出
- ② 「経済を回す」ための基盤づくりにもとづく、外国人観光客の誘致
- ③ 北海道・北東北の縄文遺跡群の世界文化遺産登録に向けた取り組み
- ④ 2025年の万国博覧会の開催に向けた、埋め立てなどの港湾部の開発

(5) 下線部⑥に関連する説明として**適切でないもの**を，次の①～④の中から一つ選びなさい。

- ① ICTの活用により，大量の情報を短時間で処理・分析して発信できる。
- ② パソコンなどの情報機器の活用により，世界中の人々と一瞬で連絡を合ったり，多様な情報を共有したりできる。
- ③ デジタル・デバイドが拡大したことにより，情報発信が容易になった。
- ④ 個人情報が流出しないようにし，情報を正しく活用できるよう，個人情報保護法が制定された。

4 次のA～Hは、ある生徒が、女性の活躍というテーマで調べ学習をした際に使用した図版である。これについて、あとの(1)～(8)に答えなさい。(19点)

A



B



C



D



E



F



G



H



(1) Aは源氏物語絵巻である。源氏物語が書かれた時代の女性の活躍について述べた文として適切でないものを、次の①～④の中から一つ選びなさい。

- ① 女性たちが、仮名文字を用いて盛んに生み出した和歌は「万葉集」にまとめられた。
- ② 天皇やきさきに仕えた女性の多くは、中流貴族の娘であった。
- ③ 清少納言は、藤原氏から出た天皇のきさきに仕え、随筆「枕草子」を書いた。
- ④ 豊かな教養を身に付けた女性たちの中には、和歌や知的な会話の場面で男性の高級貴族と対等にわたりあう者もいた。

(2) Bの人物は、北条政子である。その甥である北条泰時がまとめた、最初の武士の法律を答えなさい。

(3) Cは、井上馨が条約改正交渉の準備のためにすすめていた欧化政策の様子である。舞踏会が行われたこの建物の名前を、漢字で答えなさい。

(4) Dの人物は、イギリスの看護師としてクリミア戦争に従軍して、戦場医療の改革を行った。戦後、近代看護の確立に貢献したこの人物を、次の①～⑤の中から一つ選びなさい。

- ① ジャンヌ・ダルク ② ハリエット・ストウ ③ アンネ・フランク
④ フローレンス・ナイチンゲール ⑤ ヘレン・ケラー

(5) Eは、ある芸能が演じられている様子である。この芸能は、17世紀初めに活躍した女性によって始められ、京都で人気を集めた。この芸能を、次の①～⑤の中から一つ選びなさい。

- ① 能 ② 狂言 ③ 歌舞伎 ④ 人形浄瑠璃 ⑤ 落語

(6) Fの人物は、日露戦争に出兵した弟を思って「君死にたまふことなかれ」という詩を発表した。日露戦争について述べた文として**適切でないもの**を、次の①～④の中から一つ選びなさい。

- ① 日本は戦力が限界に達し、ロシアは革命運動がおきるなど、両国とも戦争の継続が困難になった。
② 戦争のきっかけは、朝鮮半島での農民軍の反乱であった。
③ 日本はイギリスと同盟を結び、戦争に備えた。
④ アメリカのポーツマスで講和条約が結ばれた。

(7) Gは、1946年に行われた日本初の男女普通選挙の様子である。これより前に起きた出来事として正しいものを、次の①～④の中から一つ選びなさい。

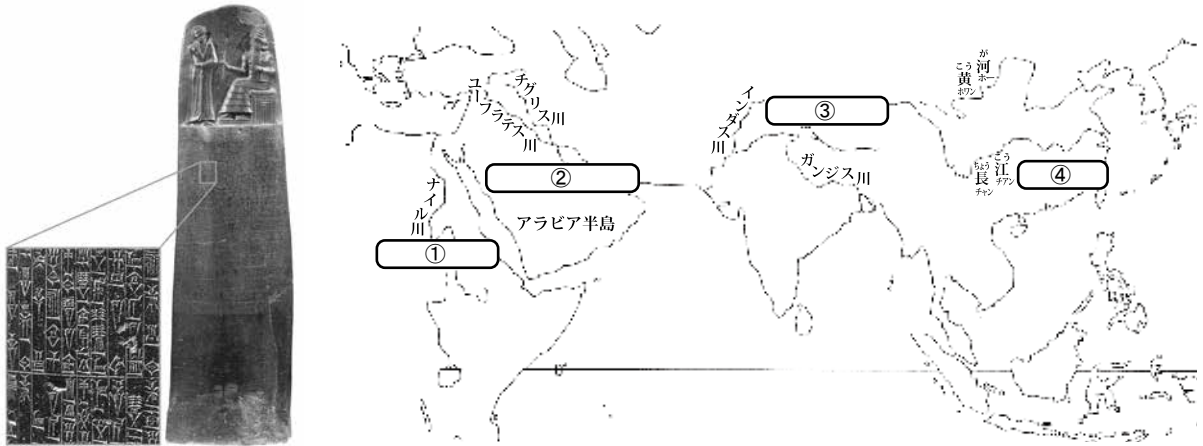
- ① 雇用の分野における男女の均等な機会及び待遇の確保のため、男女雇用機会均等法が成立した。
② 映画「フラガール」では、炭鉱労働者の娘たちがフラダンサーに成長する姿がえがかれた。
③ 都市部では、バスガールや電話交換手などの働く女性が増え、女性の社会進出が進んだ。
④ 「東洋の魔女」とよばれた女子バレーボール日本代表が、東京オリンピックで金メダルを獲得した。

(8) Hは、男女平等をグローバル目標のひとつにかかげるSDGsについて示したものである。SDGsの17のグローバル目標として**適切でないもの**を、次の①～⑤の中から一つ選びなさい。

- ① 貧困の撲滅 ② 地方創生 ③ 民族主義 ④ 森林の保護 ⑤ 格差是正

5 次の(1)～(5)に答えなさい。(16点)

(1) 左の図版は、ハンムラビ王が整えた法律で、くさび形文字で刻まれている。これともっとも関係の深い文明の位置として正しいものを、右の地図中の①～④の中から一つ選びなさい。



(2) 次の資料は、天皇の役割や、朝廷の運営方針などを定めた法律を部分要約したものである。この法律に関連する説明として適切なものを、下の①～⑤の中から一つ選びなさい。

- － 天皇は、帝王としての教養と、伝統文化である和歌を学ばなければならない。
- － 武家の官位は、公家の官位と別枠にする。
- － 関白の命令に従わない者は、流罪とする。

- ① この法律は、唐の律令にならってつくられた。
- ② この法律は、聖徳太子(厩戸皇子)によってつくられた。
- ③ この法律がつくられたころ、二度にわたる大阪の陣で豊臣氏が滅亡した。
- ④ この法律がつくられたころ、朝廷が幕府を倒そうとする応仁の乱がおこった。
- ⑤ この法律がつくられたころ、倭寇が日本の沿岸をあらして品物をうばっていた。

(3) 次の部分要約された江戸時代の資料を見て、あとのア・イに答えなさい。

- － ()の許可した品物以外のものを、中国に注文してはならない。
- － ()の許可書がない商人を入れてはならない。
- － 年貢その他の貢物は()の奉行の決めたとおりに納めること。
- － 琉球からほかの藩へ貿易船を出してはならない。

ア 資料中の()にはすべて同じ語句が入る。その語句として正しいものを、次の①～⑤の中から一つ選びなさい。

- ① 薩摩
- ② 土佐
- ③ 長州
- ④ 対馬
- ⑤ 松前

イ 琉球について述べた文として適切なものを、次の①～④の中から一つ選びなさい。

- ① 12世紀に本格的に農耕が始まり、^{あじ}按司と呼ばれる豪族たちが現れた。
- ② チンギス・ハンに征服され、モンゴル帝国に支配された。
- ③ 首長のコシャマインを中心に、和人に対する戦いが起こった。
- ④ 開拓使という役職を置いて統治を強化するとともに、欧米の技術を取り入れた開拓事業を行った。

(4) 次の部分要約された「権利章典」を見て、あとのウ・エに答えなさい。

第1条 ()の同意なしに、国王の権限によって法律とその効力を停止することは違法である。

第4条 国王大権と称して、()の承認なく、国王の統治のために税金を課すことは、違法である。

ウ 資料中の()にはすべて同じ語句が入る。その語句として正しいものを、次の①～⑤の中から一つ選びなさい。

- ① 国民
- ② 議会
- ③ 貴族
- ④ 首相
- ⑤ 国家

エ 「権利章典」が定められるきっかけとなった出来事としてもっとも適切なものを、次の①～⑤の中から一つ選びなさい。

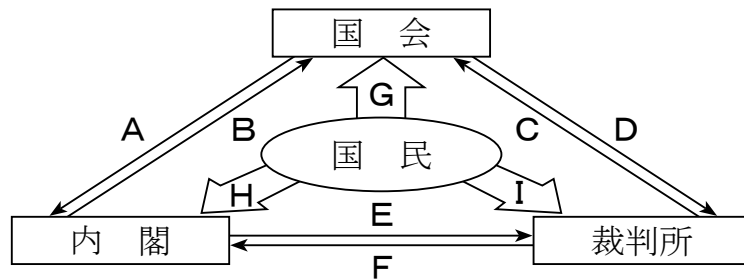
- ① 辛亥革命
- ② ピューリタン革命
- ③ フランス革命
- ④ 名誉革命
- ⑤ ロシア革命

(5) 次の部分要約された分国法について述べた文としてもっとも適切なものを、下の①～④の中から一つ選びなさい。

- 一 けんかをした者は、いかなる理由による者でも処罰する。
- 一 許可を得ないで他国へおくり物や手紙を送ることは一切禁止する。(「甲州法度之次第」)
- 一 本拠である朝倉館のほか、国内に城を構えてはならない。全ての有力な家臣は、一乗谷に引っ越し、村には代官を置くようにしなさい。(「朝倉孝景条々」)

- ① 「甲州法度之次第」の甲州とは現在の山梨県を指すので、これは上杉謙信によって定められたことがわかる。
- ② 家臣の間の争いについては、当事者で解決するように決められていた。
- ③ これらの法律が制定されたのは、家来が主人に打ち勝つ状況の広がりに対応するためであったことが考えられる。
- ④ 「朝倉孝景条々」では、敵の攻撃にそなえて、山に城を築き、各地の城に有力な家来を配置していたことがわかる。

- 6 次の図は、日本の政治制度における三権の抑制と均衡について示したものである。図に関して、あとの(1)～(5)に答えなさい。(13点)



(1) 内閣が、行政権の行使について、国会に対し連帯して責任を負う政治制度を何というか、漢字で答えなさい。

(2) 図中のA～Fのうち、「弾劾裁判所の設置」を示すのはどれか、次の①～⑥の中から一つ選びなさい。

- ① A ② B ③ C ④ D ⑤ E ⑥ F

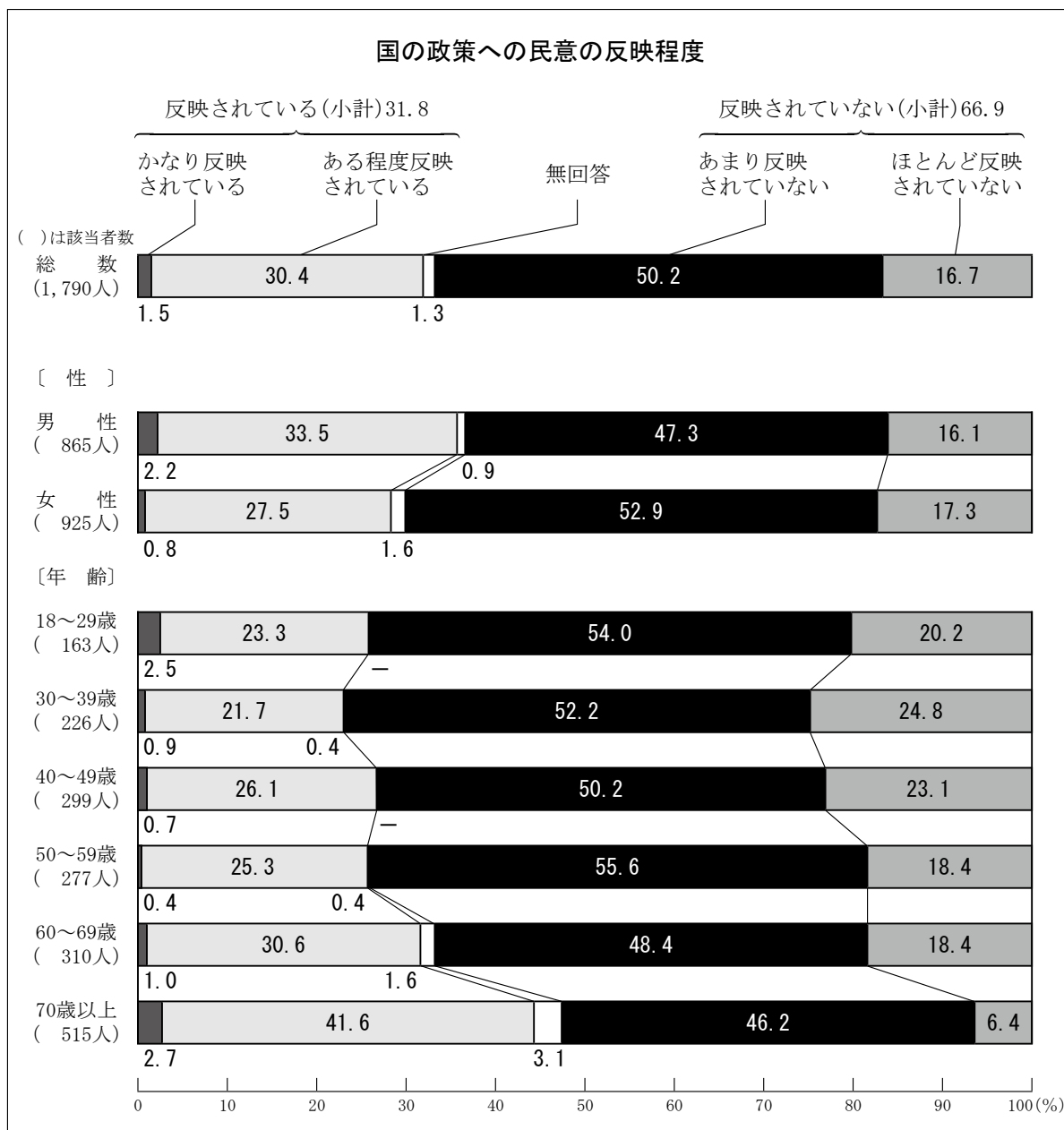
(3) 図中のGは「選挙」をあらわしている。日本の選挙制度についての説明として適切でないものを、次の①～④の中から一つ選びなさい。

- ① 公職選挙法の改正により、2016年に選挙権年齢が満18歳以上へと引き下げられた。
 ② 現在の衆議院議員の選挙制度は、小選挙区比例代表並立制である。
 ③ インターネットを利用した選挙運動は、すべて禁止されている。
 ④ 参議院議員の被選挙権は、満30歳以上である。

(4) 内閣の仕事として「外交関係の処理」や「条約の締結」がある。日本の外交についての説明として正しいものを、次の①～④の中から一つ選びなさい。

- ① 戦後、日本はGHQ（連合国軍総司令部）の占領下にあったが、1951年にポツダム宣言を受け入れ、独立と主権を回復した。
 ② 1965年に日韓基本条約を結んだことにより、日本と韓国との間の領土問題はすべて解決した。
 ③ 自衛隊の海外派遣は憲法に違反するとの見解から、これまで自衛隊を海外に派遣したことは一度もない。
 ④ 2050年までに脱炭素社会（カーボンニュートラル）を実現すると宣言し、2021年に「パリ協定に基づく成長戦略としての長期戦略」を国際連合に提出した。

(5) 図中のHは「世論」をあらわしている。次の資料から読み取れる内容として適切なものを、下の①～④の中から一つ選びなさい。



「社会意識に関する世論調査」資料（2021年3月に内閣府が実施）より抜粋

- ① 「国の政策への民意」が反映されていると答えている割合は、男性に比べて女性のほうが高い。
- ② 70歳以上の層においては、「国の政策への民意」が反映されていると答えている割合が半数を超えている。
- ③ 「国の政策への民意」が反映されていないと答えている割合がもっとも高いのは、30～39歳の層である。
- ④ 「国の政策への民意」がかなり反映されていると答えている割合は、年齢層が上がるほど低くなっている。

7 次の文を読んで、あとの(1)～(4)に答えなさい。(10点)

資本主義経済では、企業間で自由競争が行われ、競争に勝った企業はますます規模を拡大し、1社による市場支配である独占や、数社による市場支配である㊸寡占が進む。このような状況下で消費者が不利益を被るのを防ぐため、㊹1947年、企業の公正かつ自由な競争を促進するための法律が制定された。

(1) 商品の生産や販売などが少数の大企業に集中した市場について述べた文として適切なものを、次の①～④の中から一つ選びなさい。

- ① すべての商品の価格は、需要量と供給量が一致したときの均衡価格となる傾向となる。そのため、生産に必要な資源が効率的に無駄なく使われる。
- ② 日本では、電気や都市ガスの価格は、それらを提供する企業によって、政府の認可を得ることなく自由に決定される。そのため、電気や都市ガスの価格変動が大きく、国民生活はその影響を受けることがある。
- ③ 企業間の価格競争が激しくなる傾向があり、長期的に商品の価格は下がるが、企業の利益は大幅に増加し雇用も増加する。
- ④ 企業間の価格競争が弱まる傾向がある。そのため、企業が足なみをそろえて、商品の価格を高いほうへ誘導したり、生産量を調整したりすることがある。

(2) 下線部㊸について、次の表は、寡占市場における主な企業の集中の形をまとめたものである。表中の ～ にあてはまる語句の組み合わせとして適切なものを、あとの①～⑥の中から一つ選びなさい。

	<input type="text" value="ア"/> (企業連合)	<input type="text" value="イ"/> (企業合同)	<input type="text" value="ウ"/> (企業連携)
特徴	<ul style="list-style-type: none"> ・ 同一種の企業間 ・ 各社の独立性は保つ ・ 生産量、販売価格、販売地域などで協定を結ぶ 	<ul style="list-style-type: none"> ・ 同一種の企業間 ・ 合併して新企業 ・ 資本を拡大し、市場の独占をめざす 	<ul style="list-style-type: none"> ・ 異種の企業間 ・ 親会社(持株会社)が株式保有により、他企業を子会社として支配する

	ア	イ	ウ
①	カルテル	トラスト	コンツェルン
②	カルテル	コンツェルン	トラスト
③	トラスト	カルテル	コンツェルン
④	トラスト	コンツェルン	カルテル
⑤	コンツェルン	カルテル	トラスト
⑥	コンツェルン	トラスト	カルテル

(3) 下線部⑤について、この法律の名称を、次の①～④の中から一つ選びなさい。

- ① 消費者契約法
- ② 独占禁止法
- ③ 証券取引法
- ④ 労働関係調整法

(4) (3) の法律にもとづいて、1947年に設置された行政委員会を答えなさい。

