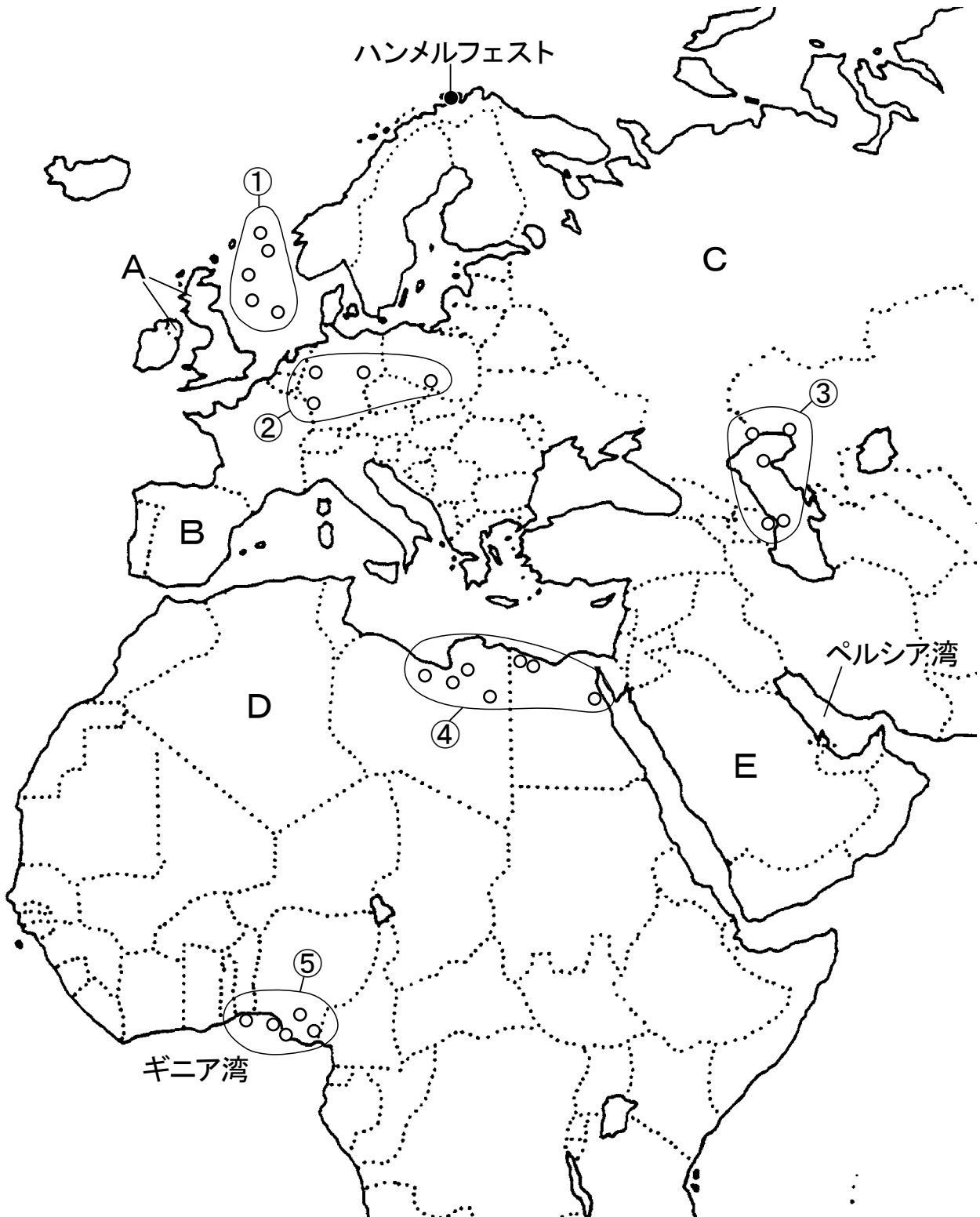


1 次の地図を見て、あとの(1)～(7)に答えなさい。(15点)



(1) 地図中のハンメルフェストは、北極圏に位置しながら、冬でも凍結せず、一年中使用できる港として知られている。この原因となっている海流として適切なものを、次の①～⑤の中から一つ選びなさい。

- ① ペルー海流 ② ラブラドル海流 ③ 東グリーンランド海流
④ 北大西洋海流 ⑤ カリフォルニア海流

(2) 地図中のペルシア湾の周辺では、ある地下資源を多く産出する。同じ地下資源を産出する地域として適切なでないものを、地図中の①～⑤の中から一つ選びなさい。

(3) 地図中のギニア湾の沿岸では、アンデス地方を原産地とし、ヨーロッパ人によって持ち込まれた商品作物の栽培がさかんである。この作物として適切なものを、次の①～⑤の中から一つ選びなさい。

- ① コーヒー ② カカオ ③ サトウキビ ④ 綿花 ⑤ 茶

(4) 地図中のA～C国における公用語の言語系を示した組み合わせとして適切なものを、次の①～⑥の中から一つ選びなさい。

	A	B	C
①	スラブ系言語	ラテン系言語	ゲルマン系言語
②	スラブ系言語	ゲルマン系言語	ラテン系言語
③	ラテン系言語	スラブ系言語	ゲルマン系言語
④	ラテン系言語	ゲルマン系言語	スラブ系言語
⑤	ゲルマン系言語	スラブ系言語	ラテン系言語
⑥	ゲルマン系言語	ラテン系言語	スラブ系言語

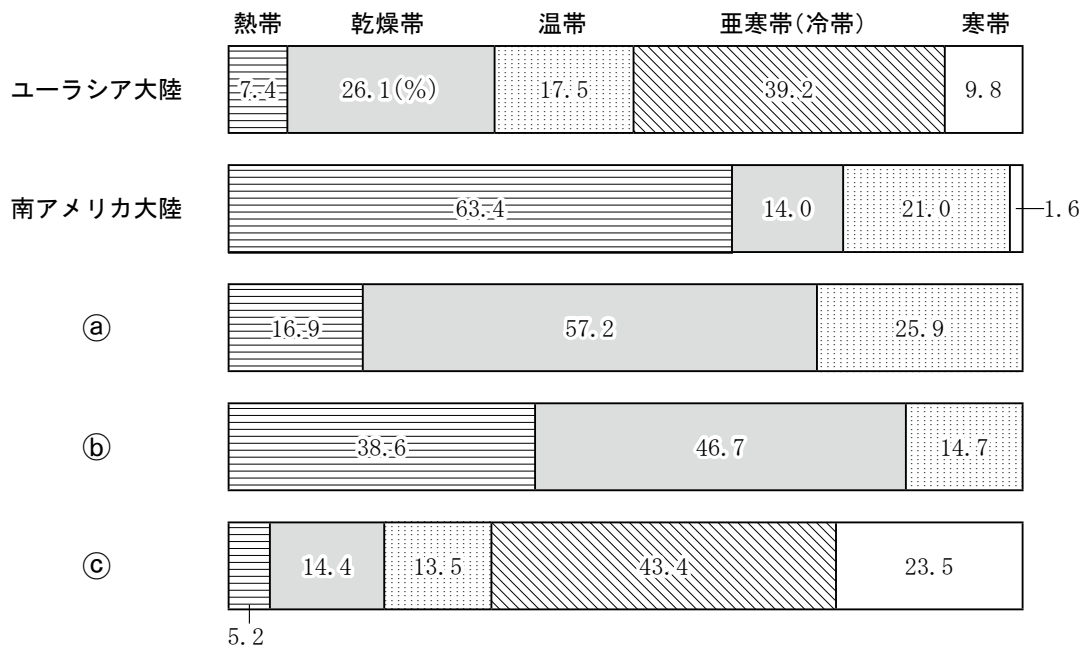
(5) 地図中のD国は、かつてヨーロッパのある国の植民地であった。植民地を支配する国のことを「宗主国」とよぶが、D国と宗主国が同じであった国を、次の①～⑥の中から一つ選びなさい。

- ① ブラジル ② メキシコ ③ アルゼンチン ④ インド ⑤ ベトナム
⑥ フィリピン

(6) 地図中のE国は、イスラーム発祥の地として知られる。次の①～⑤の中から、人口の過半数がムスリム（イスラーム信者）である国を一つ選びなさい。

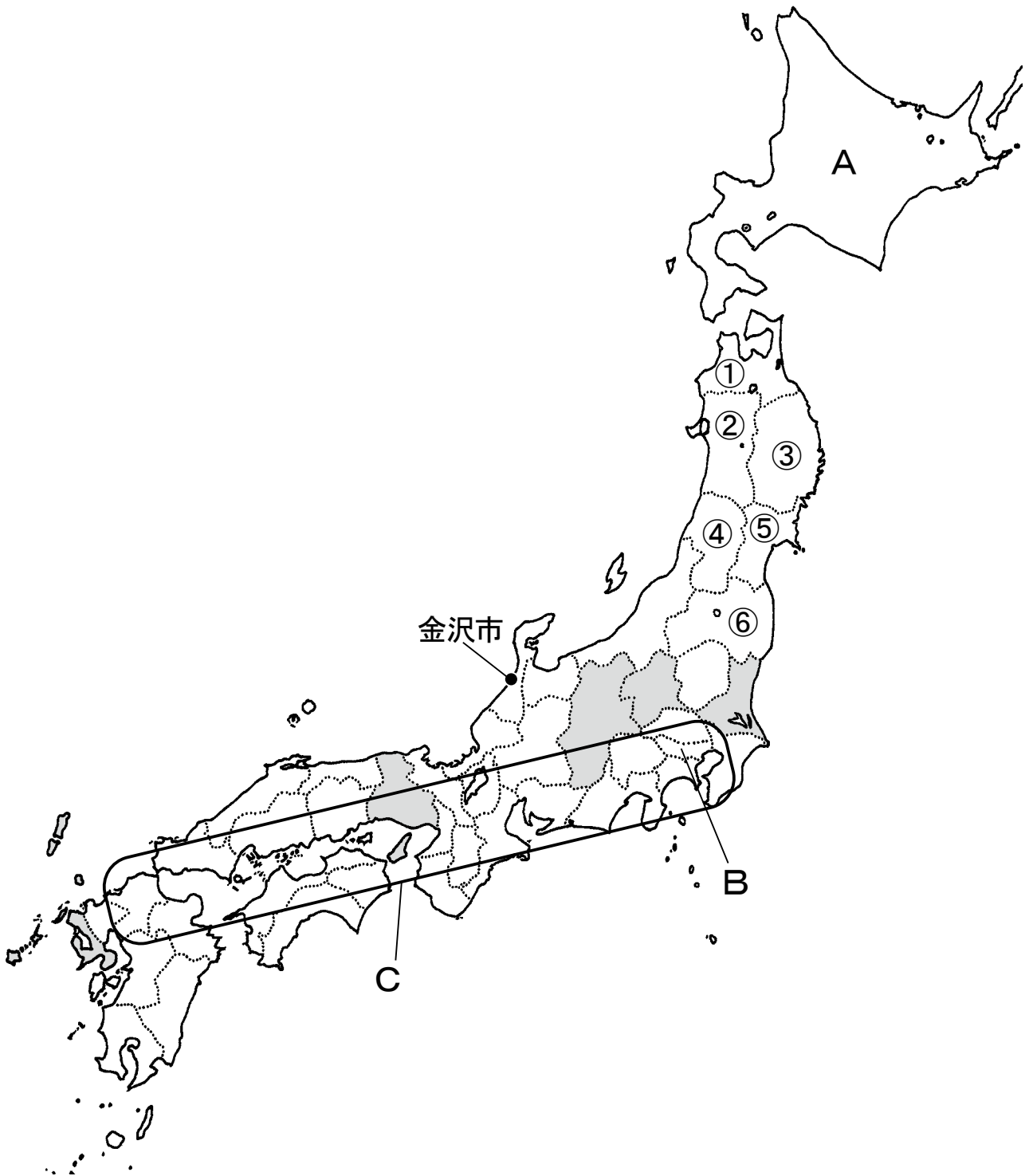
- ① マレーシア ② タイ ③ インド ④ メキシコ ⑤ アルゼンチン


(7) 地図中には、熱帯から寒帯まで、すべての気候がみられる。次のグラフは、5つの大陸における各気候帯の占める面積の割合をあらわしたものである。a～cの示す大陸の組み合わせとして適切なものを、下の①～⑥の中から一つ選びなさい。



	a	b	c
①	オーストラリア大陸	北アメリカ大陸	アフリカ大陸
②	オーストラリア大陸	アフリカ大陸	北アメリカ大陸
③	北アメリカ大陸	オーストラリア大陸	アフリカ大陸
④	北アメリカ大陸	アフリカ大陸	オーストラリア大陸
⑤	アフリカ大陸	オーストラリア大陸	北アメリカ大陸
⑥	アフリカ大陸	北アメリカ大陸	オーストラリア大陸

2 次の地図を見て、あとの(1)～(7)に答えなさい。(15点)



(1) 地図中の  は、ある農産物の収穫量について、上位5つの県を示したものである。適切なものを、次の①～⑤の中から一つ選びなさい。(2020年の統計)

- ① レタス ② タマネギ ③ 茶 ④ みかん ⑤ もも

(2) 地図中の金沢市について述べた次の文中の (ア)・(イ) に入る語句の組み合わせとして適切なものを、下の①～⑨の中から一つ選びなさい。

金沢市は、仙台市や広島市と同じように、城の周りに家臣や商人などが集められてつくられた (ア) から発達して、県庁所在地となった。金沢市周辺では、(イ) や九谷焼などの伝統工芸品の生産がおこなわれている。

	ア	イ
①	宿場町	会津塗 ^{ぬり}
②	宿場町	博多人形
③	宿場町	加賀友禅
④	城下町	会津塗
⑤	城下町	博多人形
⑥	城下町	加賀友禅
⑦	門前町	会津塗
⑧	門前町	博多人形
⑨	門前町	加賀友禅


(3) 地図中Aについて述べた文として適切なものを、次の①～⑤の中から一つ選びなさい。

- ① 独自の文化を持つアイヌの人々が暮らした土地で、現在でも、アイヌ語に由来する地名が残っている。
 ② 明治時代に送り込まれた屯田兵は、この地の防衛にあたり、開拓はおこなわなかった。
 ③ 亜寒帯に属するこの地は、寒さが厳しいため稲作に適さず、米の生産量は、全国でも下位である。
 ④ 他の地域とくらべて農家一戸あたりの農地面積がせまいため、機械化が進んでいない。
 ⑤ 有珠山^{うす}など多くの火山が活動しており、災害が発生する危険性から、観光業は発達していない。

(4) 地図中**B**について述べた文として適切なものを、次の①～⑤の中から一つ選びなさい。

- ① 都心では、通勤や通学によって、夜間人口よりも昼間人口の方が多くなる。
- ② 都市部では、郊外よりも気温が低下する「ヒートアイランド現象」が発生することがある。
- ③ 物価や家賃などが高いことから、在留外国人数は、大阪府や京都府よりも少ない。
- ④ 都市機能の地域分散が進み、すべての省庁の庁舎は、さいたま新都心や幕張新都心へと移転した。
- ⑤ 火山灰が堆積した関東ロームにおおわれた台地は、稲作に適し、水田が広がっている。

(5) 地図中**C**では、第二次世界大戦後に、原材料の輸入や製品の輸出に便利であることから、工業が発展した。次のグラフは、**C**に含まれる東海工業地域・中京工業地帯・阪神工業地帯における、工業出荷額ならびに工業別製品出荷額の割合を示したものである。①～③と工業地域・地帯の組み合わせとして適切なものを、下の①～⑥の中から一つ選びなさい。(2019年の統計)



	①	②	③
①	東海工業地域	中京工業地帯	阪神工業地帯
②	東海工業地域	阪神工業地帯	中京工業地帯
③	中京工業地帯	東海工業地域	阪神工業地帯
④	中京工業地帯	阪神工業地帯	東海工業地域
⑤	阪神工業地帯	東海工業地域	中京工業地帯
⑥	阪神工業地帯	中京工業地帯	東海工業地域

(6) 次のカードは、生徒が東北地方の県について調べたものであるが、5つの県のものしか完成していない。まだカードがつくられていない県を、地図中①～⑥の中から一つ選びなさい。(使用されている統計は、2020年のもの)

- ・3度にわたりノーベル賞の候補となった野口英世の出身県である。
- ・閉山した炭鉱では、温泉を利用してハワイをテーマとした観光施設がつけられた。
- ・東日本大震災では、東京電力の原子力発電所で事故が起こり、多くの人が住む場所を失い避難した。

- ・松尾芭蕉がおとずれて、「五月雨を^{さみだれ}あつめて早し最上川」の俳句を残した。
- ・伝統工芸品の中でも木工品が多くつくれる、特に将棋駒は有名で、全国のほとんどがこの県でつくられている。
- ・果物の栽培がさかんで、洋なしやさくらんぼの生産量は、全国1位である。

- ・奥州藤原氏によって建てられた中尊寺は、ユネスコ世界遺産に登録されている。
- ・リアス海岸の港では、津波による被害を受けてきたことから、住民の防災意識が高く、すみやかな避難が身についている。
- ・「銀河鉄道の夜」で知られる宮沢賢治の出身県である。

- ・青森ひば、木曾ひのきとともに「日本三大美林」のひとつに数えられる^{すぎ}杉の生産が有名である。
- ・捕りすぎによるハタハタの絶滅を心配して、1992年から3年間^{りょう}漁を禁止した。
- ・伝統行事のなまはげは、ユネスコ無形文化遺産に登録されている。

- ・アメリカ軍の専用施設と共用施設を合わせた面積は、沖縄県に次いで広い。
- ・版画家として世界的に知られる棟方志功の出身県である。
- ・農業産出額は、東北地方でもっとも多く、りんごやにんにくなどの生産量は、全国1位である。

(7) 日本の気候について述べた文として下線部が適切でないものを、次の①～⑤の中から一つ選びなさい。

- ① 春から夏に移り変わる時期には、梅雨前線が停滞し、長雨をもたらす。
- ② 夏には、南東からの季節風が強まり、特に太平洋側に多くの降水をもたらす。
- ③ 夏から秋にかけておとずれる移動性の熱帯低気圧は台風とよばれ、雨や風によって被害を受けることがある。
- ④ 冬の日本海側に雪がもたらされるのは、日本海上で、暖流の日本海流により水蒸気が供給されるからである。
- ⑤ 瀬戸内地方で年間を通して降水量が少なくなるのは、夏も冬も、山地を越えてきた季節風によるためである。

3 次の文を読んで、あとの(1)～(7)に答えなさい。(15点)

2023年5月に㉔G7広島サミットが行われ、日本は、㉕通算7回目となる議長国(ホスト国)を務めた。メンバーは、日本を含めた㉖7か国の首脳と、㉗EUの2名の首脳であった。サミットには議長国の判断でメンバーが追加できるため、今回、㉘ブラジルやインド、韓国の首脳や、国連などの代表者を招待して会合などを行った。当初は㉙オンラインでの参加を予定していたウクライナ大統領が来日して参加したことで、「平和サミット」としての意義にいっそう重みが増した。このサミットの成果として、「㉚核兵器のない世界」に向けて取り組んでいく決意を改めて共有し、G7として初めてとなる核軍縮に焦点を当てた「広島ビジョン」を発出した。また、参加首脳が平和記念資料館を訪問し、メッセージを記帳した。

(1) 下線部㉔に関連して、広島県の旧国名としてもっとも適切なものを、次の①～⑤の中から一つ選びなさい。

- ① 駿河国 ② 遠江国 ③ 阿波国 ④ 信濃国 ⑤ 安芸国

(2) 下線部㉕に関連して、これまでに開催された都道府県として正しくないものを、次の①～⑤の中から一つ選びなさい。

- ① 東京都 ② 沖縄県 ③ 北海道 ④ 三重県 ⑤ 青森県

(3) 下線部㉖に含まれない国を、次の①～⑦の中から一つ選びなさい。

- ① イタリア ② カナダ ③ ロシア ④ フランス ⑤ アメリカ
⑥ イギリス ⑦ ドイツ

(4) 下線部㉗に関連する説明として適切なものを、次の①～④の中から一つ選びなさい。

- ① ヨーロッパでは経済や政治の面での統合が進められ、1993年に6か国でEU(ヨーロッパ連合)が成立した。
② EUでは、共通通貨が全加盟国で導入され、加盟国間の経済格差は解消した。
③ EUに加盟する国の間では貿易品に関税がかからないため、地価や賃金の安い東ヨーロッパの加盟国に工場を移す企業があらわれた。
④ EU成立当初から加盟していたギリシャは、国民投票の結果、2020年にEUを離脱した。

(5) 下線部㉔と、ロシア、中国、南アフリカ共和国は、経済成長が著しい新興国として首脳会合をおこない、連携を強めている。これらの国々の総称を、次の①～⑤の中から一つ選びなさい。

- ① N I E S ② W T O ③ T P P ④ B R I C S ⑤ A S E A N

(6) 下線部㉕に関連する文として**もっとも適切でないもの**を、次の①～④の中から一つ選びなさい。

- ① I C T（情報通信技術）を活用することで、距離が離れていても、会議に参加できたりコミュニケーションがとれたりする。
② インターネットを活用するには、通信環境やデータの転送速度を確認することが必要である。
③ A I（人工知能）が大きく進化していることから、これまで人間が考えてきたことをコンピュータにさせることが、国により義務づけられている。
④ 名前を明らかにせずに情報を簡単に発信することができるため、情報モラルや情報リテラシーが求められる。

(7) 下線部㉖に関連する説明として適切なものを、次の①～④の中から一つ選びなさい。

- ① 原子爆弾（原爆）は、世界で初めて、長崎県で使用された。
② 原爆ドームは世界遺産に登録され、2023年で登録30年を迎えた。
③ 核兵器は、多くの人々を一瞬で死傷させ、放射線の影響は、被爆者の身体に長い間後遺症を残す。
④ 日本では、非核三原則にもとづいてPKO協力法（国際平和協力法）が制定された。

- 4 下の表は、ある生徒が、日本と大陸との関わりとその影響について時代区分ごとにまとめたものである。これについて、あとの(1)～(8)に答えなさい。(18点)

原始	渡来人により漢字などが伝えられる。
古代	㉞律令制度を導入する。 ㉟漢字をもとに仮名文字が生まれる。
中世	㊱座禅によって自分の力でさとりを開こうとする教えが伝えられる。 元軍が襲来する。
近世	㊲豊臣秀吉が朝鮮に出兵する。 A
近代	清国と日本との間で戦争が起こる。 ㊳ロシアと日本との間で戦争が起こる。 Bが、辛亥革命の母体の一つとなった中国同盟会を、東京で結成する。 日本が韓国を併合する。 日中戦争がおこる。
現代	日中共同声明によって㊴国交正常化がなされる。 日中平和友好条約を締結する。

- (1) 下線部㉞について説明した文として適切でないものを、次の①～④の中から一つ選びなさい。

- ① 律は政治を行う上でのさまざまな決まりで、令は刑罰の決まりのことである。
- ② 律令に基づいて政治を行う国家を律令国家という。
- ③ 地方は多くの国に区切られ、それぞれの国に、都から国司が派遣された。
- ④ 中央には八省と呼ばれる役所が置かれた。

- (2) 下線部㉟について説明した文として適切なものを、次の①～④の中から一つ選びなさい。

- ① 漢字を変形させた平仮名が生まれ、平仮名から片仮名が生まれた。
- ② さまざまな資料から、仮名文字を用いて和歌を書いていたことがわかる。
- ③ 男性貴族は、漢文の詩を作り、仮名文字を使うことはなかった。
- ④ 仮名文字による文学作品として、かぐや姫の物語として知られる「源氏物語」が作られた。

- (3) 下線部㊱のうち、臨濟宗を伝えた人物(ア)、曹洞宗を伝えた人物(イ)を、次の①～⑦の中からそれぞれ一つ選びなさい。

- ① 親鸞 ② 重源 ③ 日蓮 ④ 栄西 ⑤ 鑑真 ⑥ 一遍 ⑦ 道元

(4) 下線部㉔がおこなったこととして**適切でないもの**を、次の①～④の中から一つ選びなさい。

- ① 朝鮮・高山国（台湾）・ルソン（フィリピン）などに手紙を送り、服属を求めた。
- ② 地域によってバラバラだったものさしやますを統一した。
- ③ 朝廷に働きかけて足利義昭を室町幕府の第15代将軍にし、政治の実権をにぎった。
- ④ 関白に任じられ、全国に対して停戦を命令した。

(5) 次のX～Zは、Aの時期に起きた出来事である。これらの出来事を古い順から並べたものはどれか、次の①～⑥の中から一つ選びなさい。

X 長崎に唐人屋敷がつくられる。

Y アヘン戦争がおこる。

Z ペリーが浦賀に来航する。

- ① X—Y—Z ② X—Z—Y ③ Y—X—Z ④ Y—Z—X
- ⑤ Z—X—Y ⑥ Z—Y—X

(6) 下線部㉕の影響について説明した文として**適切でないもの**を、次の①～④の中から一つ選びなさい。

- ① 戦争による増税や犠牲に苦しむ国民は、ロシアからの賠償金を得ることを求めた。
- ② 沖縄に上陸したロシア軍に、日本軍は、中学生や女学生までを兵士や看護要員として動員することで強く抵抗した。
- ③ 日本の勝利が、アジアのさまざまな民族に刺激をあたえ、民族運動が活発化した。
- ④ 日本では、国民の中に大国意識が生まれ、アジア諸国に対する優越感が強まった。

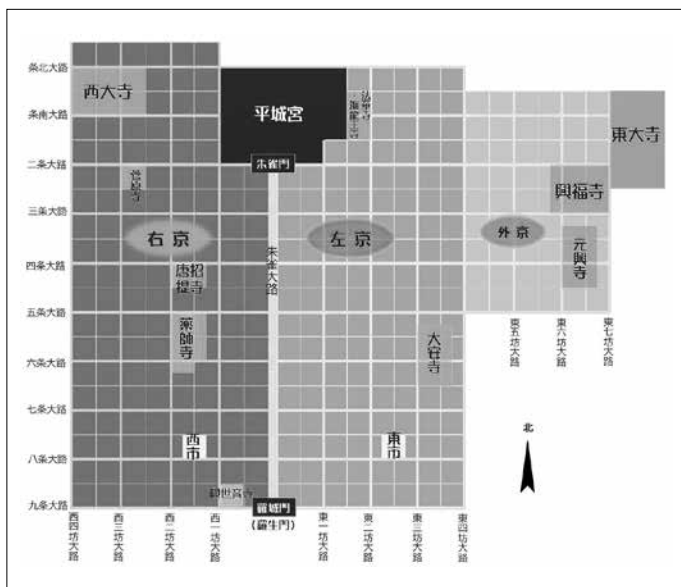
(7) 辛亥革命の中心人物で中華民国の臨時大総統となったBは誰か、漢字で答えなさい。

(8) 下線部㉖の記念としてパンダがおくられた場所として正しいものを、次の①～⑦の中から一つ選びなさい。

- ① 水俣 ② 博多 ③ 上野 ④ 郡山 ⑤ 那覇 ⑥ 札幌 ⑦ 神戸

5 次の(1)～(5)に答えなさい。(12点)

(1) 次の図は、ある時代の都城を復元したものである。ア・イに答えなさい。



ア この都城に関連して述べた文として適切なものを、次の①～⑤の中から一つ選びなさい。

- ① この都城は、現在の京都の地に造られた。
- ② 東西にもうけられた市では、和同開珎が使用されていたと考えられる。
- ③ この都城が都であった時代に、随筆「徒然草」が生まれた。
- ④ この都城を守るために、防人と呼ばれる兵士が配置された。
- ⑤ 正倉院や大仏がある寺院が、右京に置かれた。

イ 図中の興福寺には、この都城に都があった時代の文化を代表する「阿修羅像」がある。国際色豊かなこの時代の文化を、次の①～⑤の中から一つ選びなさい。

- ① 飛鳥文化 ② 化政文化 ③ 元禄文化 ④ 国風文化 ⑤ 天平文化

(2) 次の写真を参考にし、文中の(A)・(B)に入る語句の組み合わせとして適切なものを、①～⑥の中から一つ選びなさい。



この建物は、武士として初めて太政大臣となった(A)が整備した(B)であり、世界遺産に登録されている。日宋貿易で大きな利益を得た(A)の一族が、ここで航海の安全を祈った。

- ① A－足利義満 B－平等院鳳凰堂
- ② A－足利義満 B－厳島神社
- ③ A－平清盛 B－平等院鳳凰堂
- ④ A－平清盛 B－厳島神社
- ⑤ A－藤原道長 B－平等院鳳凰堂
- ⑥ A－藤原道長 B－厳島神社

(3) 次の写真は、ローマ教皇が住む宮殿の側にある建物である。この建物について述べた文として適切なものを、①～④の中から一つ選びなさい。



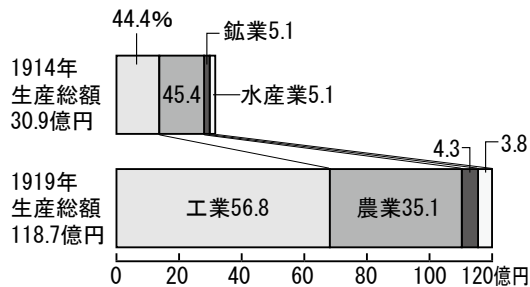
- ① この建物は、正教会の教会として造られた。
- ② この建物は、オスマン帝国によって造られた。
- ③ この建物は、世界最小の国バチカン市国にある。
- ④ この建物は、古代ギリシャの人々が建てたパルテノン神殿である。

(4) 次の写真について述べた文として適切なものを、①～⑤の中から一つ選びなさい。



- ① この建造物が造られたころ、日本へ鉄砲が伝来した。
- ② この建造物がある場所で、イタイイタイ病が発生した。
- ③ この建造物には、強力な力を持つ王や有力な豪族が埋葬された。
- ④ この建造物は、北海道・北東北の縄文遺跡群の一つとして、世界遺産に登録されている。
- ⑤ この建造物は、日米和親条約の開港地に造られた。

(5) 次のグラフに関連して述べた文としてもっとも適切なものを、①～④の中から一つ選びなさい。



(「日本資本主義発達史年表」より)

- ① 1914年の生産総額は、1919年の農業生産額よりも少ない。
- ② 工業の生産額をみると、1919年は1914年よりも、約12億円増加している。
- ③ 生産総額における農業の割合をみると、1919年は1914年よりも高くなっている。
- ④ 1914年からの経済発展をささえた好況を、特需景気という。

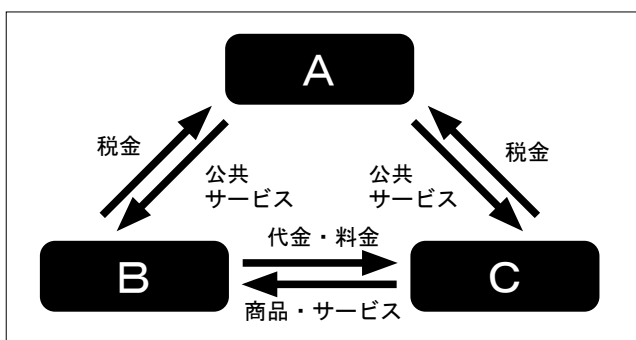
6 次の(1)～(5)に答えなさい。(13点)

(1) 次の表は、資本主義と社会主義についてその違いをまとめたものである。表を参考にして、下の①～④の文の中から**適切でないもの**を一つ選びなさい。

資本主義		社会主義
個人や企業が土地や工場を所有できる。	資本	資本は公有化され、個人は土地や工場を所有することはできない。
資本家と労働者が存在し、貧富の差や社会的不平等が生じて対立する。	格差	資本家は存在せず、そのため社会的不平等はうまれないとされる。
市場での自由な取引を原則とする。市場経済を採用し、企業は利益を追求して活動する。	経済	政府が立てた計画によって生産が行われる。計画経済とよばれる。

- ① 資本主義を採用している国においては、市場経済によって生じる貧富の差を解決するために、社会保障制度なども取り入れている。
- ② 現在の中国は、社会主義を放棄したことで飛躍的な発展を遂げ、2010年には国内総生産(GDP)が世界第2位となった。
- ③ 旧ソビエト連邦では、市場経済のような競争がみられないため、労働意欲が低下し、経済が停滞する傾向がみられた。
- ④ 市場経済において、独占・寡占市場が形成されると、競争が阻害され、消費者に不利益をもたらす。

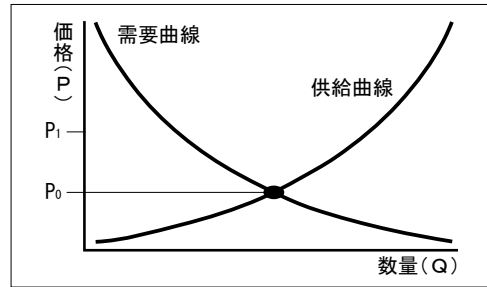
(2) 次の図は、三つの経済主体の関係をあらわしている。A～Cにあてはまる経済主体の組み合わせとして適切なものを、下の①～⑥の中から一つ選びなさい。



- | | | |
|----------|--------|--------|
| ① A — 政府 | B — 企業 | C — 家計 |
| ② A — 政府 | B — 家計 | C — 企業 |
| ③ A — 企業 | B — 政府 | C — 家計 |
| ④ A — 企業 | B — 家計 | C — 政府 |
| ⑤ A — 家計 | B — 政府 | C — 企業 |
| ⑥ A — 家計 | B — 企業 | C — 政府 |

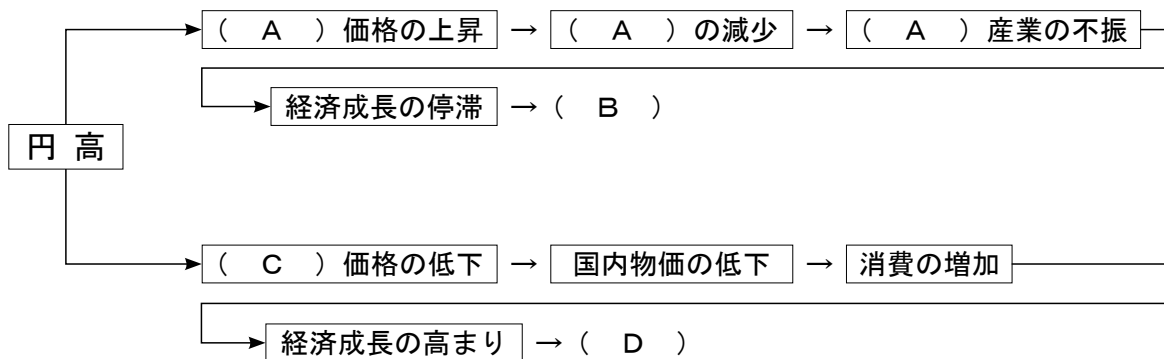
(3) 次の文と図は、市場経済における需要と供給の関係についてあらわしたものである。文中の (A) ~ (C) にあてはまる語句の組み合わせとして適切なものを、下の①~⑧の中から一つ選びなさい。

図において、需要量と供給量が一致している時の価格は P_0 である。 P_0 を (A) 価格と呼ぶ。価格 P_1 においては、需要量より供給量が (B) ため、(C) が起きていると考えられる。



- ① A — 管理 B — 少ない C — 品あまり
- ② A — 管理 B — 少ない C — 品不足
- ③ A — 管理 B — 多い C — 品あまり
- ④ A — 管理 B — 多い C — 品不足
- ⑤ A — 均衡 B — 少ない C — 品あまり
- ⑥ A — 均衡 B — 少ない C — 品不足
- ⑦ A — 均衡 B — 多い C — 品あまり
- ⑧ A — 均衡 B — 多い C — 品不足

(4) 外国為替相場の変化は、生活に大きな影響を及ぼす。次の図は、円高によって好況あるいは不況をもたらされるしくみについてまとめたものである。図の (A) ~ (D) にあてはまる語句の組み合わせとして適切なものを、下の①~④の中から一つ選びなさい。



- ① A — 輸入 B — 不況 C — 輸出 D — 好況
- ② A — 輸入 B — 好況 C — 輸出 D — 不況
- ③ A — 輸出 B — 不況 C — 輸入 D — 好況
- ④ A — 輸出 B — 好況 C — 輸入 D — 不況

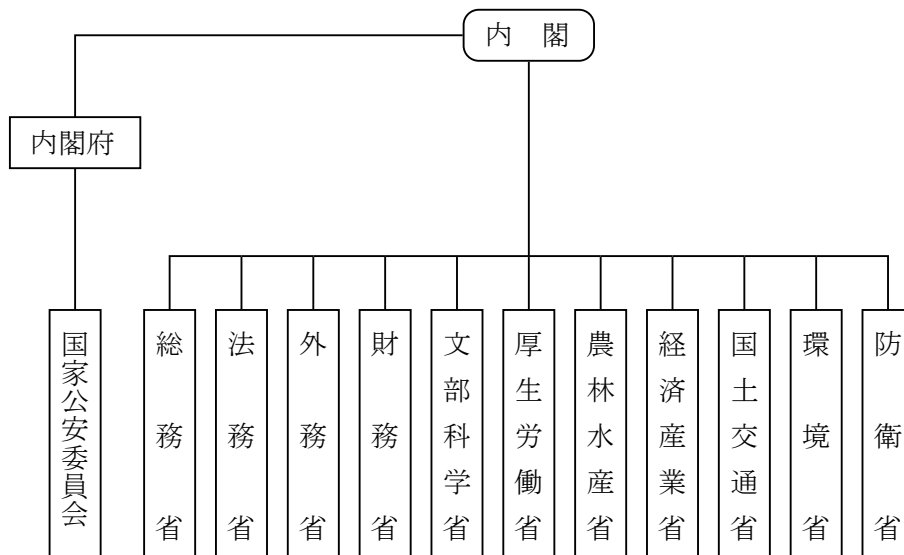
(5) 次の表は、日本銀行が行う金融政策，政府が行う財政政策をまとめたものである。表の (A) ~ (D) にあてはまる語句の組み合わせとして適切なものを，下の①~④の中から一つ選びなさい。

	不況の時	好況の時
日本銀行	(A) オペレーションを行い，銀行から企業への資金の貸し出しを増やそうとする。	(B) オペレーションを行い，銀行から企業への資金の貸し出しを減らそうとする。
政府	公共投資を増やして企業の仕事を増やす。 (C) 政策を行う。	公共投資を減らして企業の仕事を減らす。 (D) 政策を行う。

- ① A — 買い B — 売り C — 減税 D — 増税
 ② A — 買い B — 売り C — 増税 D — 減税
 ③ A — 売り B — 買い C — 減税 D — 増税
 ④ A — 売り B — 買い C — 増税 D — 減税

7 次の図を参考に，あとの (1) ~ (5) に答えなさい。(1 2 点)

日本の行政のしくみの一部



(1) 内閣の仕事として**適切でないもの**を、次の①～④の中から一つ選びなさい。

- ① 政令の制定 ② 予算の作成・提出 ③ 条約の締結 ④ 憲法改正の発議

(2) 内閣では、行政の方針を決定する会議が行われる。この会議を何というか、その名称を漢字で答えなさい。

(3) 内閣総理大臣について述べた文として適切なものを、次の①～④の中から一つ選びなさい。

- ① 内閣総理大臣は、国権の最高機関である内閣の首長である。
② 内閣総理大臣は、内閣を代表し、行政各部を指揮・監督する。
③ 内閣総理大臣は、内閣が設ける弾劾裁判所の裁判官をつとめる。
④ 内閣総理大臣は、拒否権を有しており、国会が議決した法案を差し戻すことができる。

(4) 次のア・イの業務をおこなう省としてもっとも適切なものを、図の中から一つずつ選び、それぞれ答えなさい。

- ア 社会福祉・社会保障・労働条件の向上などを図る。
イ 国の税金の仕組みづくりや、国債の発行・管理を行う。

(5) 次の文中の（ ）にあてはまる語句を、下の①～⑤の中から一つ選びなさい。

内閣は、（ ）裁判所の長官を指名し、その他の裁判官を任命する。

- ① 簡易 ② 家庭 ③ 地方 ④ 高等 ⑤ 最高

