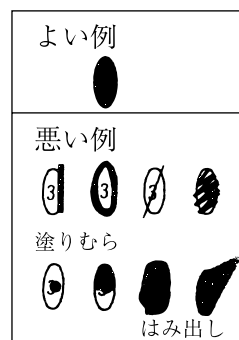


2025年 社 会

マークのしかた

- マークは楕円内をむらなく塗りつぶすこと。
- HBの鉛筆または同じ濃さのシャープペンシルで塗りつぶすこと。
- 一度塗りつぶしたものを直すときは、あとが残らないように、プラスチック製消しゴムできれいに消してから直すこと。



受験番号のマークのしかた

- 受験番号記入欄に、自分の受験番号を記入し、下の該当する数字をマークしなさい。
- 右図は1503番の人の例です。

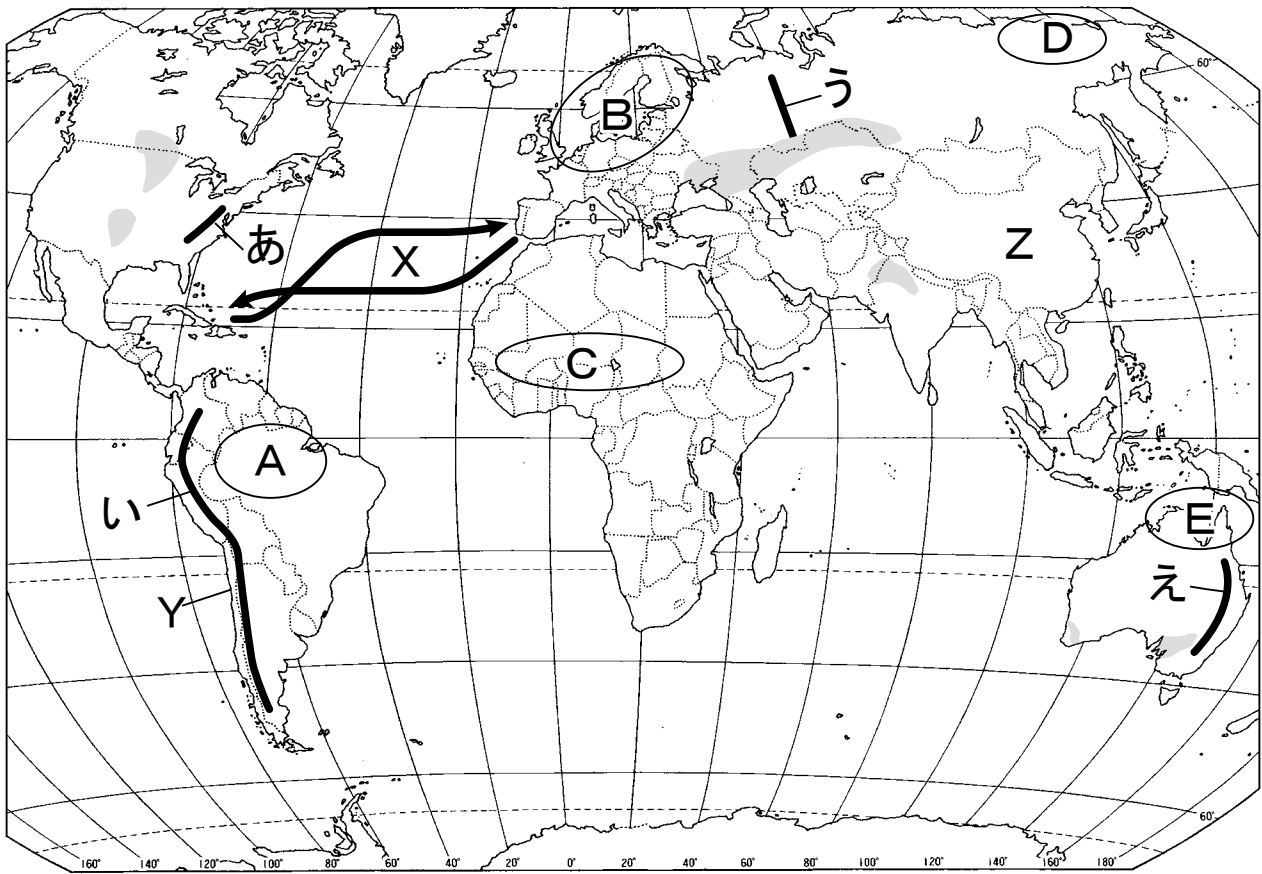
受験番号			
	1	5	03
●	①	①	①
	②	②	②
	③	③	●
	④	④	④
	⑤	●	⑤
	⑥	⑥	⑥
	⑦	⑦	⑦
	⑧	⑧	⑧
	⑨	⑨	⑨
	⑩	⑩	●

解答のしかた

- 記述で解答するように指示してある問題以外はマークで解答しなさい。
- 右図の例は 1 の (1) に ③, (2) に ⑤ と答えるときのものです。この例では (4) は記述で解答します。

問題番号	解 答 欄
1	(1) ① ② ● ④ ⑤ ⑥ ⑦ ⑧ ⑨ ⑩
	(2) ① ② ③ ④ ● ⑥ ⑦ ⑧ ⑨ ⑩
	(3) ① ② ③ ④ ⑤ ⑥ ⑦ ⑧ ⑨ ⑩
	(4)
	(5) ① ② ③ ④ ⑤ ⑥ ⑦ ⑧ ⑨ ⑩

1 次の地図を見て、あとの(1)～(6)に答えなさい。(15点)



(1) 地図中のA～Eのうち、特に酸性雨による環境被害が問題となっている地域を、次の①～⑤の中から一つ選びなさい。

- ① A ② B ③ C ④ D ⑤ E

(2) 地図中のあ～えは、それぞれ山脈を示している。地震の震源や火山が帯のように連なって分布する変動帯に属する山脈を、次の①～④の中から一つ選びなさい。

- ① あ ② い ③ う ④ え

(3) 地図中の は、ある作物の主な栽培地域を示している。この農作物を示す写真として適切なものを、次の①～⑤の中から一つ選びなさい。

①



②



③



④



⑤



(4) 地図中の X は、大航海時代にコロンブスが、西インド諸島に到達して^{とうたつ}もどるまでのおおまかな航路を示している。次のア・イに答えなさい。

ア コロンブスが、西インド諸島からヨーロッパにもどるために利用した風を、次の①～④の中から一つ選びなさい。

- ① 偏西風 ② 台風 ③ 季節風 ④ 貿易風

イ 大航海時代以降、メキシコとブラジルを植民地とした国の組み合わせとして適切なものを、次の①～⑥の中から一つ選びなさい。

	メキシコ	ブラジル
①	ポルトガル	イギリス
②	ポルトガル	スペイン
③	イギリス	ポルトガル
④	イギリス	スペイン
⑤	スペイン	イギリス
⑥	スペイン	ポルトガル

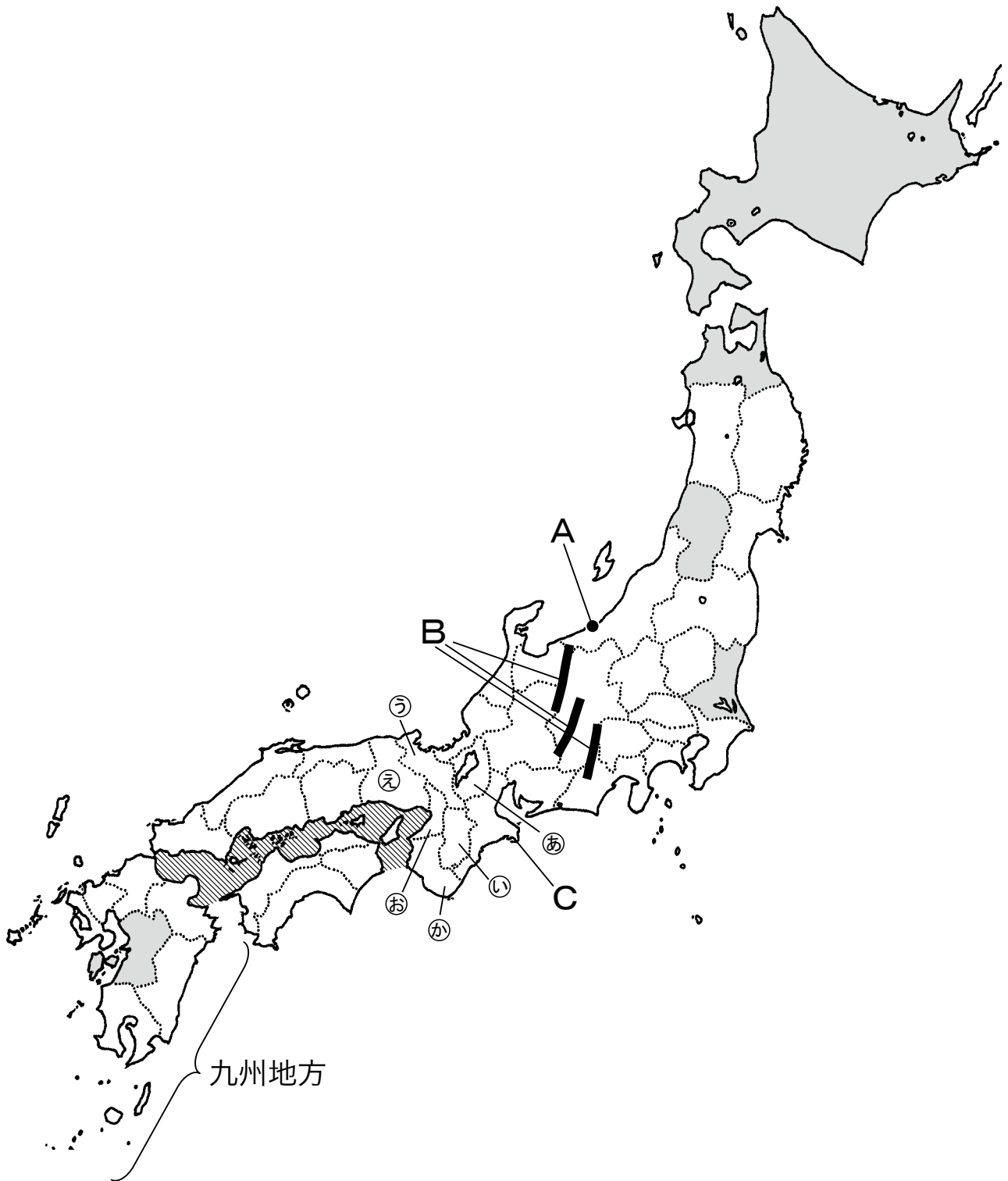
(5) 地図中のY国は、ある資源の産出量が世界一であり、その多くを輸出している。この資源として適切なものを、次の①～⑤の中から一つ選びなさい。

- ① 鉄鉱石 ② ボーキサイト ③ 銅鉱 ④ 石油（原油） ⑤ 石炭

(6) 次の①～⑤の文は、地図中のZ国について述べたものである。下線部の内容が適切でないものを一つ選びなさい。

- ① 一人っ子政策は、人口の増えすぎをおさえるために導入され、夫婦1組あたりの子供の数は、現在も1人だけに厳しく制限されている。
- ② 人口は14億人を超え、その約9割が漢族（漢民族）であり、その言葉をもとにした「普通話」が公用語とされている。
- ③ 長江から南の地域では、温暖な気候と豊富な水を利用して、主食である米の栽培がさかんにおこなわれている。
- ④ 国の計画に沿って生産がおこなわれてきたが、発展につながらなかったため、シェンチェンやアモイなどに経済特区を設けて、外国企業を受け入れた。
- ⑤ 沿岸部の都市が発展する一方で、工業化の遅れている内陸部の農村からは、仕事と収入を求めて、都市へと出かせぎに行く人々が多くいる。

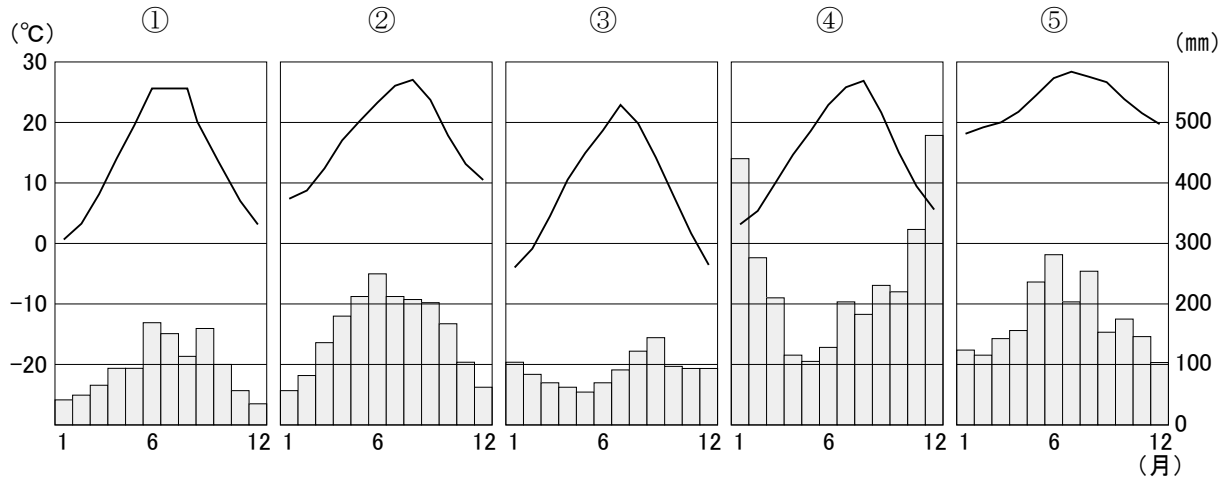
2 次の地図を見て、あとの(1)～(7)に答えなさい。(15点)



(1) 地図中の は、ある農産物の収穫量について、上位5つの県を示したものである。適切なものを、次の①～⑤の中から一つ選びなさい。(2021年の統計)

- ① メロン ② りんご ③ いちご ④ みかん ⑤ もも

(2) 地図中の都市Aの気温と降水量を示したグラフとして適切なものを、次の①～⑤の中から一つ選びなさい。



(3) 地図中のBに示した山脈を含む地域は、3000m前後の山々が連なり、日本アルプスとよばれている。この3つの山脈として正しいものを、次の①～④の中から一つ選びなさい。

- ① 越後山脈、^{ひだ}飛騨山脈、木曾山脈
 ② 越後山脈、飛騨山脈、赤石山脈
 ③ 越後山脈、木曾山脈、赤石山脈
 ④ 飛騨山脈、木曾山脈、赤石山脈

(4) 地図中Cの半島には、複雑に入り組んだ海岸線がみられ、^{しんじゅ}真珠などの養殖がおこなわれている。若狭湾や三陸海岸にもみられるこの海岸地形を、何とよぶか答えなさい。


(5) 次の文は、3人の生徒が、長期休みに訪れたある府県について会話をしたようすである。文中の(X)・(Y)には、地図中の㉞～㉠のいずれかの府県があてはまる。その組み合わせとして適切なものを、下の①～⑨の中から一つ選びなさい。

「わたしは、祖父母のいる福島県に行ったわ。東日本大震災があって、東京電力の原子力発電所の事故が起こったことは知っていたけれど、町のようにすからは、地震のことは感じられなかった。でも、祖父が『うちはまだ農業を続けているけれど、東京電力からの農家への保証金はごくわずかで、農業を続けるのをあきらめなければならない農家がたくさんでしまった。風評被害もひどかったしね』と寂しそうに言っていたのが忘れられない。常磐炭鉱^{じょうばん}の閉山後に建設されたハワイをテーマとした観光施設に、今年も行ってきたの。フラダンスやポリネシアンダンスのショー、たくさんのウォータースライダー……。来年もまた行きたいな。2人はどこにいったの？」

「わたしは、(X)に行ったのよ。道路が碁盤^{ごばん}の目のように区画されたのが1000年以上も前だと知って驚いたわ。歴史的な景観を守るために、建物の高さやデザインなどが制限されていると聞いて、弘前市の都市景観条例を思い出したの。旅館では、九条ねぎや賀茂なすなどの伝統的な野菜を使った料理が出されて、両親は感動して食べていたようだったけれど、わたしは、翌日に食べた抹茶パフェの方が思い出に残っているわ。有名なお店だったから、1時間近くも並んで待ったけれど、その価値はあったと思う。外国からの観光客が多く、どこもとて混雑していて、バスに乗るのもたいへんだったけれど……。次に行くときには、地下鉄を利用して移動する計画を立てようと思うわ。」

「ぼくは、(Y)に行ったんだ。『天下の台所』や『商人の町』とよばれたこともあってか、とても活気があるように感じたよ。淀川の近くにある叔父^{おじ}さんの家に泊めてもらったんだけど、『このあたりには、中小企業が多いが、なかにはロケット部品など、先端技術産業を支えている工場もあるんだよ』と教えてくれた。『臨海部の埋め立て地には、かつては製鉄所や石油化学コンビナートがたくさんあったけれど、今は、太陽電池パネルや蓄電池の工場が多くなっているし、明日行くテーマパークも建設されたりして、ずいぶんとようすが変わったね』とも言っていた。テーマパークは、とても楽しかったよ。」

	(X)	(Y)
①	㉞	㉟
②	㉞	㊱
③	㉞	㊲
④	㉟	㊳
⑤	㉟	㊴
⑥	㉟	㊵
⑦	㊶	㊳
⑧	㊶	㊴
⑨	㊶	㊵

(6) 地図中  の海と沿岸地域について述べた文として、下線部が適切でないものを、次の①～⑤の中から一つ選びなさい。

- ① 源平の争乱において、屋島や壇ノ浦で、源氏と平氏が戦った。
- ② 比較的温暖で、一年を通して降水量が少ない気候を生かして、オリーブやレモンを栽培している地域がある。
- ③ おだやかな海域が多く、特に広島県や岡山県などでは、かきの養殖がさかんである。
- ④ 本州と四国をむすぶ海底トンネルが建設され、人や物の移動がより活発になった。
- ⑤ 関ヶ原の戦いで西軍についたこの地域の大名は、江戸幕府のもとで外様（外様大名）とよばれた。

(7) 地図中の九州地方は、火山が多いことで知られている。次の文中の下線部が適切でないものを、①～⑤の中から一つ選びなさい。

- ① 長崎県の雲仙岳で1991年に起こった噴火では、溶岩流によって、多くの人命がうばわれた。
- ② 大分県の八丁原には、地熱発電所が建設されており、1号機・2号機をあわせて国内最大の発電量をほこる。
- ③ 別府、指宿などには、温泉があり、多くの観光客が訪れている。
- ④ 熊本県の阿蘇山には、噴火のあとに地面がくぼんでできた、カルデラとよばれる地形がみられる。
- ⑤ 鹿児島県から宮崎県にかけて、シラスとよばれる火山活動にともなう噴出物が厚く堆積した地層がみられる。

3 ある生徒が【貿易】【貨幣】【税】の3つのテーマで歴史についてのまとめをしている。

【貿易】について、次の(1)・(2)に答えなさい。(4点)

- (1) 足利義満は、幕府の正式な交易船に、明から与えられた証明書を持たせたが、これを何というか、漢字で答えなさい。
- (2) 20世紀の日本の貿易について述べた文として適切でないものを、次の①～④の中から一つ選びなさい。

- ① 世界恐慌の後、日本は綿織物などの輸出を伸ばしたが、このことにより、イギリスなどとの貿易摩擦が深刻化した。
- ② 高度経済成長期には、鉄鋼や造船などの重化学工業などが産業の中心となり、国民総生産は、資本主義国の中で世界第1位となった。
- ③ 日本は、石油危機による不況からいち早く抜け出して輸出を増やし貿易黒字が拡大することとなったが、これがアメリカなどとの不均衡をうみ、貿易摩擦がおこった。
- ④ フランス領インドシナの南部へ軍を進めた日本に対して、石油などの輸出禁止に踏み切ったアメリカに、イギリスやオランダが同調した。

【貨幣】について、次の(3)～(5)に答えなさい。(6点)

- (3) 右の写真に示した貨幣について述べた文として適切でないものを、次の①～④の中から一つ選びなさい。

- ① 平城京を都とした頃に使われたと考えられる。
- ② 日本最初の銭貨である。
- ③ 銀貨と銅貨の2種類がある。
- ④ 全国各地で出土している。



- (4) 1871年、明治政府は10進法の新しい貨幣をつくった。この際に定められた新しい単位は(A)・銭・厘であるが、下の囲みを参考に(A)に入る新しい単位を漢字で答えなさい。

$\begin{aligned} 1 (A) &= 100 \text{ 銭} \\ 1 \text{ 銭} &= 10 \text{ 厘} \end{aligned}$

(5) 2024年に新紙幣が発行された。その肖像に選ばれた人物について述べた文として**適切でないもの**を、次の①～④の中から一つ選びなさい。

- ① 破傷風血清療法的确立、ペスト菌の発見のほか、伝染病研究所などを創立した。
- ② 欧米の思想を日本に紹介し『学問のすゝめ』を著した。
- ③ 女子英学塾（現：津田塾大学）を創設するなど、近代的な女子高等教育に尽力した。
- ④ 実業界で活躍し、生涯に500以上の企業の設立などに関わった。

【税】について、次の(6)・(7)に答えなさい。(4点)

(6) 日本の律令の税について述べた文として**適切でないもの**を、次の①～④の中から一つ選びなさい。

- ① 土木工事などを行う労役の義務があった。
- ② 調や庸は、人々の手によって都に運ばれた。
- ③ 兵士の中には、外国から日本を守る屯田兵として、九州北部に送られる者もいた。
- ④ 口分田の面積に応じて負担する租は、ききんなどにそなえて郡の倉庫に納められた。

(7) 明治時代の地租について調べている途中で、(B)という言葉に注目した。次の文は、(B)についての教科書の用語解説からの抜粋である。下の文の空欄(B)(C)に適切な語句を入れなさい。

土地を持たない農民が、(C)から土地を借りて耕作し、(B)料を払うこと。また(B)を行う人々のこと。1873年の地租改正で、地租をはらう義務は土地所有者である(C)に課されたが、実際はその土地を耕作している(B)人の(B)料でまかなわれており、(B)人の生活は苦しかった。

【貿易】【貨幣】【税】について、次の(8)に答えなさい。(2点)

(8) 次の①～④の中から、**【貿易】【貨幣】【税】**の3つの要素をすべて含むものを一つ選びなさい。

- ① 大陸から輸入された銭が使用された中世においては、座と呼ばれる団体が、武士や貴族、寺社に税を納めることで保護を受け、営業を独占する権利を認められた。
- ② 老中の田沼意次は、長崎貿易を活発にするため、銅を専売にして金・銀にかわる輸出品としたり、倭物を輸出したりした。
- ③ 貿易開始後、外国との金銀の交換比率のちがいがから、金貨(小判)が大量に国外に持ち出されたため、幕府は小判の質を落としたが、その結果として物価が急速に上昇した。
- ④ イギリス政府が植民地よりも本国を優先した法律を次々に定めたため、茶の貿易の独占に反対する大陸の人々が抗議をした。

4 次の文は、弘前の地図を見た生徒たちの会話である。あとの(1)～(6)に答えなさい。
(14点)

- Aさん：弘前城の周りには、市役所を示す◎のほか、△や◇、Υがあります。
 Bさん：弘前駅は、弘前城からみて南東に位置しています。
 Cさん：弘前城の西を、岩木川が流れています。
 Dさん：弘前城の南には、最勝院などの寺院が集まった地域があります。
 Aさん：弘前城の南西にも、長勝寺などの寺院が集まった地域があります。
 Bさん：弘前城の東には、㊦栃木県日光にもある㊧東照宮があります。
 Cさん：そう言えば、太宰府や京都でも有名な㊨天満宮も弘前にはあります。
 Dさん：㊩吉田松陰が弘前の知人を訪問し、話し合いをおこなった部屋が現存しているそうです。

(1) 文中の地図記号が示すものの組み合わせとして正しいものを、次の①～⑧の中から一つ選びなさい。

	①	②	③	④	⑤	⑥	⑦	⑧
△	裁判所	裁判所	裁判所	裁判所	保健所	保健所	保健所	保健所
◇	税務署	税務署	博物館	博物館	税務署	税務署	博物館	博物館
Υ	警察署	消防署	警察署	消防署	警察署	消防署	警察署	消防署

(2) 下線部㊦と同じように、県名と県庁所在地名が異なっている県を、次の①～⑤の中から一つ選びなさい。

- ① 秋田県 ② 静岡県 ③ 山梨県 ④ 高知県 ⑤ 佐賀県

(3) 下線部㊨にまつられる神は、ある歴史上の人物である。その人物は、1600年の戦いで石田三成の勢力に勝利し、のちに幕府を開いている。この人物について述べた文として適切なものを、次の①～⑤の中から一つ選びなさい。

- ① 各地に守護や地頭を置いて統治した。
 ② 積極的に倭寇の取りしまりをおこなった。
 ③ 日本ではじめて楽市・楽座をおこなった。
 ④ 二度にわたり、朝鮮半島へ大軍を派遣した。
 ⑤ 貿易を望む大名や豪商に朱印状を発行した。

(4) 次の文は、下線部⑤に神としてまつられている歴史上の人物について述べている。文中の(I)・(II)に入る語句の組み合わせとして適切なものを、下の①～⑥の中から一つ選びなさい。

この人物は、それまで日本から中国の(I)へ遣わしていた使節を、(I)のおとろえと往復の危険とを理由に派遣の延期を訴えて認められた(II)である。のちに(II)は、大宰府に追放されてしまい、死後、学問の神としてまつられた。

- | | | | |
|---------|-----------|---------|-----------|
| ① I - 隋 | II - 蘇我馬子 | ② I - 隋 | II - 菅原道真 |
| ③ I - 唐 | II - 蘇我馬子 | ④ I - 唐 | II - 菅原道真 |
| ⑤ I - 魏 | II - 蘇我馬子 | ⑥ I - 魏 | II - 菅原道真 |

(5) 下線部㉔は、当時の幕府の外交政策に反対していたこともあり、安政の大獄で処刑された人物である。次のア・イに答えなさい。

ア 安政の大獄で、下線部㉔の他に、大名や公家、その家臣などを厳しく処罰した人物を、次の①～⑤の中から一つ選びなさい。

- ① 新井白石 ② 間宮林蔵 ③ 井伊直弼 ④ 西郷隆盛 ⑤ 水野忠邦

イ 下線部㉔の人物が生きていた時代のできごとについて述べた文として最も適切なものを、次の①～⑤の中から一つ選びなさい。

- ① 日本に関税自主権がなく、外国に領事裁判権を認める日米和親条約が結ばれた。
② 天保の飢饉が全国をおそうと、大阪では大塩平八郎による反乱がおこった。
③ 王政復古の大号令が出され、幕府の権威の立て直しがおこなわれた。
④ 禅宗の僧である雪舟が、優れた水墨画の作品をえがいた。
⑤ 全国水平社が結成され、差別からの解放を目指す運動が進められた。

(6) 生徒A～Dの会話から、長勝寺から見て西にあると考えられるものを、次の①～④の中から一つ選びなさい。

- ① 岩木川 ② 最勝院 ③ 東照宮 ④ 弘前駅

5 次の文を読んで、あとの(1)～(7)に答えなさい。(15点)

日本国憲法は、1946年(P)に公布され、1947年(Q)に施行された。㉔日本国憲法は、全ての国民が基本的人権を持つことを保障し、㉕侵すことのできない権利として尊重している。また、㉖大日本帝国憲法での(R)主権を否定して、主権は国民が持つとし、さらに、㉗多くの犠牲を出した戦争への反省のうえに立ち、㉘平和を求めて戦争の放棄を宣言している。

(1) 文中(P)・(Q)にあてはまる月日の組み合わせとして適切なものを、次の①～⑥の中から一つ選びなさい。

	(P)	(Q)
①	2月11日	5月 3日
②	2月11日	11月 3日
③	5月 3日	2月11日
④	5月 3日	11月 3日
⑤	11月 3日	2月11日
⑥	11月 3日	5月 3日

(2) 下線部㉕に関連して、日本国憲法が制定された過程について述べた次の文ア～エを、年代の古い方から順に並べ替え、解答欄に合わせて答えなさい。

ア 連合軍総司令部は、日本政府が初めに作った憲法の改正案が不十分であるとして、自ら草案を作成した。

イ 衆議院議員総選挙が行われ、はじめての女性議員が誕生した。

ウ 大日本帝国憲法の改正手続きとして、最後の帝国議会にて、改正案が審議・修正された。

エ 日本政府が、ポツダム宣言を受諾し、敗戦が確定した。

(3) 下線部㉔に関連して、日本国憲法には明確に規定されていない「新しい人権」を、次の①～⑥の中から一つ選びなさい。

- ① 法の下での平等 ② 生存権 ③ 環境権
④ 思想・良心の自由 ⑤ 選挙権 ⑥ 裁判を受ける権利

(4) 下線部㉕に関連する説明として適切なものを、次の①～④の中から一つ選びなさい。

- ① この憲法は、世界で初めて社会権を保障した憲法として制定された。
② この憲法にもとづき、国民は、帝国議会を構成する両議院の議員を選挙で選んだ。
③ この憲法では、「国民」の基本的な人権は制限されることなく保障された。
④ この憲法の制定により、日本は、アジアで最初の近代的な立憲制国家となった。

(5) 文中（ R ）にあてはまる語句を、漢字二字で答えなさい。

(6) 下線部㉖に関連して、戦後、アメリカ合衆国との間で締結された日米安全保障条約にもとづき、日本には、駐留米軍（米軍基地）が置かれている。現在、日本にあるアメリカ軍専用施設数ならびに面積の多くが最も集中している都道府県を、次の①～⑥の中から一つ選びなさい。

- ① 北海道 ② 青森県 ③ 東京都 ④ 神奈川県 ⑤ 京都府 ⑥ 沖縄県

(7) 下線部㉗に関連して、次の文中の（ S ）にあてはまる語句を、漢字二字で答えなさい。

従来は、国家が自国の国土と国民を守るという「国家の安全保障」の考え方が中心であった。しかし、グローバル化が進む中で、安全と平和を確保するために、一人一人の（ S ）に注目し、さまざまな脅威から個人を守ろうとする「（ S ）の安全保障」の考え方が生まれ、世界的に広まっている。

(外務省Webページより)

6 次の文を読んで、あとの(1)～(6)に答えなさい。(15点)

冷戦終結後、㉔地域紛争や㉕テロリズムなど、従来の「戦争」とは異なる形態の「新しい戦争」と呼ばれるものが多発している。地域紛争では、同じ地域に暮らす異なる民族同士が争う民族紛争という形をとることが多い。その結果、国を追われた多くの難民が生まれている。経済面では、㉖先進工業国と発展途上国との経済格差問題がおきている。一方、同じ問題を抱える国や地域がまとまり、協力していこうとする㉗地域主義の動きも活発になり、それにともない、㉘世界的な経済交渉も進んでいる。

- (1) 下線部㉔について、次の文が示す場所を、右の地図中の①～④の中から一つ選びなさい。

パレスチナをめぐる紛争が続いている。



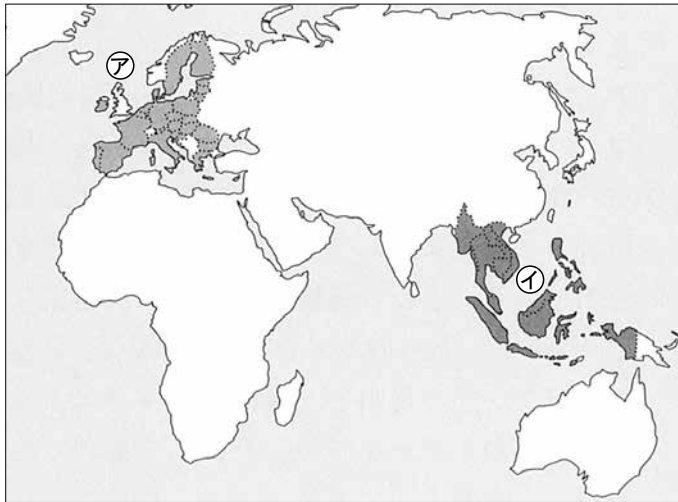
- (2) 下線部㉕について、2001年に同時多発テロが発生し、多くの犠牲者が出た都市を、次の①～④の中から一つ選びなさい。

① パリ ② ロンドン ③ ホンコン ④ ニューヨーク

- (3) 下線部㉖を何と呼ぶか、次の①～④の中から一つ選びなさい。

① モノカルチャー経済 ② 貿易摩擦 ③ 南北問題 ④ デジタルデバイド

(4) 下線部㉔について，次の地図中の㉗・㉙にあてはまる地域組織の組み合わせとして正しいものを，右の①～⑥の中から一つ選びなさい。



	㉗	㉙
①	EU	AU
②	EU	ASEAN
③	AU	EU
④	AU	ASEAN
⑤	ASEAN	EU
⑥	ASEAN	AU

(5) 上の地図中の㉗の組織で導入された共通通貨を，次の①～④の中から一つ選びなさい。

- ① ユーロ ② ポンド ③ ルーブル ④ ドル

(6) 下線部㉕について，次の文にあてはまる経済交渉の略称を，下の①～④の中から一つ選びなさい。

2015年10月，環太平洋地域の国々により，経済の自由化を目的とした多角的な経済連携協定が，大筋合意された。2016年2月に，12か国が協定文に署名したが，2017年に，アメリカ合衆国が離脱を表明した。

- ① APEC ② USMCA ③ TPP ④ MERCOSUR

7 あとの(1)～(4)に答えなさい。(10点)

(1) 次の年表は、公害や環境問題に対する取り組みをまとめたものである。年表を参考にして、下の①～④の中から適切なものを一つ選びなさい。

1956年	水俣病を公式に確認
1967年	公害対策基本法制定
1970年	公害国会開催
1971年	環境庁発足
1972年	国連人間環境会議開催(ストックホルム)
1992年	国連環境開発会議開催〔地球サミット〕(リオデジャネイロ)
1993年	環境基本法制定
1997年	環境影響評価法制定、地球温暖化防止京都会議〔COP3〕開催
2000年	循環型社会形成推進基本法制定
2001年	環境省設置
2003年	環境教育推進法制定

- ① 高度経済成長期に社会問題化した水俣病、四日市ぜんそく、イタイイタイ病、新潟水俣病は四大公害病といわれ、損害賠償を求める裁判ではいずれも患者側が勝訴している。
- ② 国連人間環境会議では、将来世代の経済的・社会的利益を損なわないよう、「持続可能な開発」が基本理念として確認された。
- ③ 国連環境開発会議において地球温暖化防止条約(気候変動枠組条約)が採択され、その締約国会議として開催された地球温暖化防止京都会議では、アメリカ合衆国の協力により京都議定書が採択された。
- ④ 循環型社会形成推進基本法により、大規模な開発事業を行う前に環境への影響を調査する環境アセスメントが義務づけられた。

(2) 次のア～ウは、日本の社会保障制度についてまとめたものである。これらを年代の古い順に並べたものを、下の①～⑥の中から一つ選びなさい。

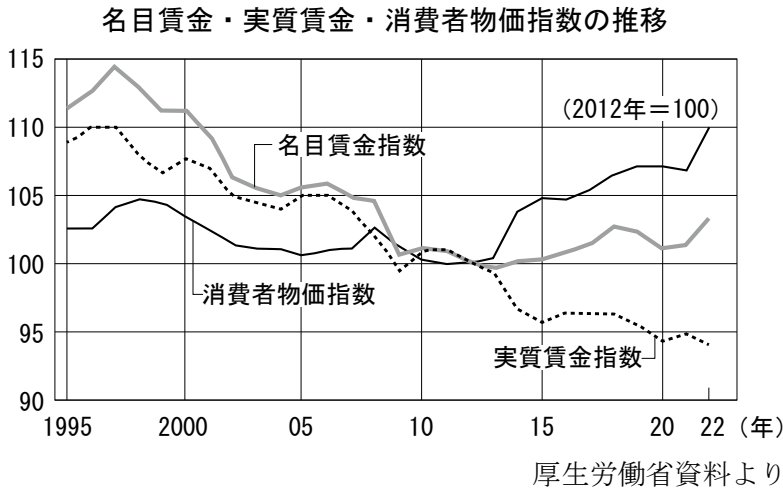
ア 社会保障と税の一体改革として、消費税率が食品などを除いて10%まで引き上げられた。

イ 40歳以上の人加入し、介護が必要になった時に介護サービスを受けられる介護保険制度が導入された。

ウ すべての国民が医療保険と年金保険に加入する、国民皆保険・皆年金制度が実現した。

- ① ア → イ → ウ
- ② ア → ウ → イ
- ③ イ → ア → ウ
- ④ イ → ウ → ア
- ⑤ ウ → ア → イ
- ⑥ ウ → イ → ア

(3) 次のグラフから読み取れる内容として、下の①～④の中から適切なものを一つ選びなさい。



- ・名目賃金とは、労働者が貨幣で受け取った賃金そのものを指す。
- ・実質賃金とは、名目賃金から物価変動の影響を取り除いたものをいう。
- ・名目賃金が10%上がると同時に、物価も10%上がった場合、実質賃金は変化しない。

- ① 2015年以降、消費者物価指数が低下しつづけていることにより、名目賃金指数と実質賃金指数のへだたりが小さくなっている。
- ② 2021年以降は名目賃金指数が上昇しているが、消費者物価指数が上昇しているため、実質賃金指数は低下している。
- ③ 2012年の名目賃金指数は、1995年以降のピーク時に比べて15ポイント以上低下している。
- ④ 2000年と2005年を比較すると、2005年のほうが消費者物価指数、名目賃金指数、実質賃金指数ともに高い。

(4) 次の図は、日本の政治制度における三権の抑制と均衡の関係を表したものである。「弾劾裁判所の設置」が^{かしょ}あてはまる箇所として適切なものを、図の①～⑤の中から一つ選びなさい。

